



UNIVERSITÄTS-
BIBLIOTHEK
PADERBORN

Anschauliche Geometrie

Barth, Friedrich

München, 2001


[urn:nbn:de:hbz:466:1-83452](https://nbn-resolving.org/urn:nbn:de:hbz:466:1-83452)

Barth · Krumbacher · Ossiander · Barth

Anschauliche Geometrie 7

Lösungen

BE



Oldenbourg

Anschauliche Geometrie 7

Lösungen

Friedrich Barth · Elisabeth Barth
Gert Krumbacher · Konrad Ossiander

S. 32

Oldenbourg

Das Papier ist aus chlorfrei gebleichtem Zellstoff
hergestellt, ist säurefrei und recyclingfähig.

© 1998 R. Oldenbourg Verlag GmbH, München

Das Werk und seine Teile sind urheberrechtlich geschützt.
Jede Verwertung in anderen als den gesetzlich zugelassenen
Fällen bedarf deshalb der vorherigen schriftlichen Einwilli-
gung des Verlages.

1. Auflage 1993

2., unveränderter Nachdruck 01 00 99 98

Die letzte Zahl bezeichnet das Jahr des Drucks.

Umschlaggestaltung: Gert Krumbacher, München

Satz: Tutte Druckerei GmbH, Salzweg-Passau

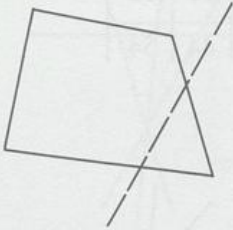
Druck und Bindung: MM-Druck GmbH, München

ISBN 3-486-03295-X

2. Kapitel

Aufgaben zu 2.1

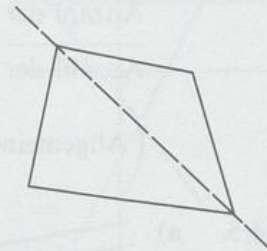
24/1.



Fünfeck

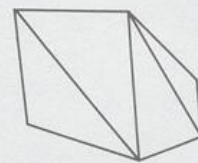
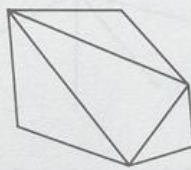
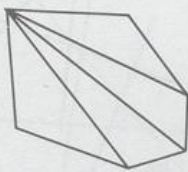


Viereck



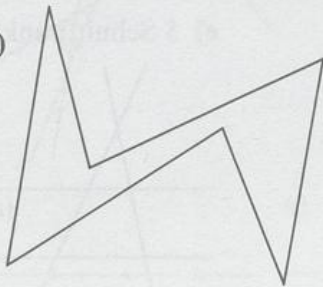
Dreieck

24/2. a)



3 Möglichkeiten mit jeweils 4 Dreiecken

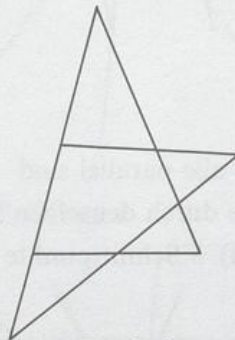
b)



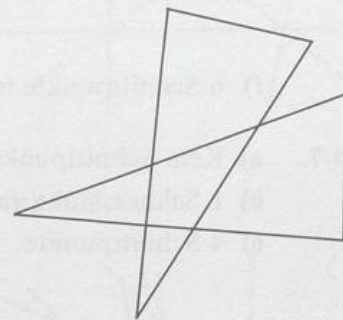
24/3.



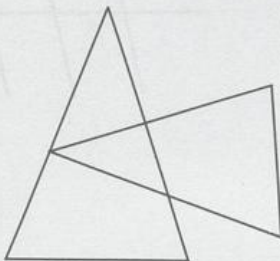
Sechseck



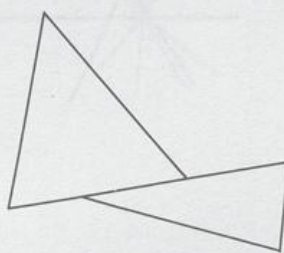
Fünfeck



Viereck



Dreieck



Zweieck



Eineck



Nulleck

24/4. a) Anzahl der Ecken

4	5	6	7
---	---	---	---

Anzahl der Diagonalen

2	5	9	14
---	---	---	----

b) Die Anzahl der Diagonalen erhöht sich um 3, 4, 5, 6, ...

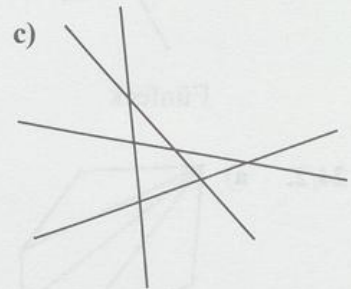
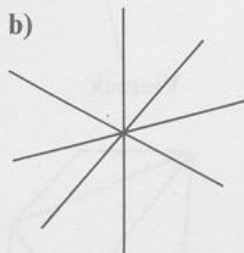
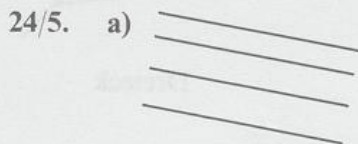
Anzahl der Ecken

4	5	6	7	8	9	10	11	12
---	---	---	---	---	---	----	----	----

Anzahl der Diagonalen


2	5	9	14	20	27	35	44	54
---	---	---	----	----	----	----	----	----

(Allgemeine Formel: $\frac{(n-3) \cdot n}{2}$)



24/6. a) Kein Schnittpunkt (s. 5a)) b) 1 Schnittpunkt (s. 5b))

c) 3 Schnittpunkte



d) 4 Schnittpunkte



e) 5 Schnittpunkte




f) 6 Schnittpunkte (s. 5c))

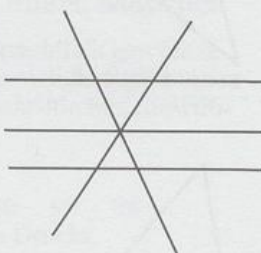
24/7. a) Kein Schnittpunkt, falls alle parallel sind

b) 1 Schnittpunkt, falls alle durch denselben Punkt laufen

c) 4 Schnittpunkte



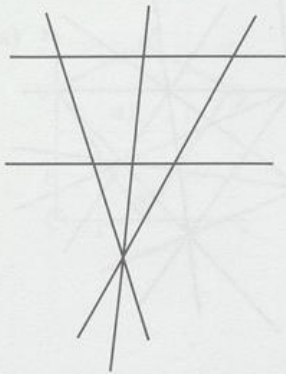
d) 5 Schnittpunkte



e) 6 Schnittpunkte



f) 7 Schnittpunkte



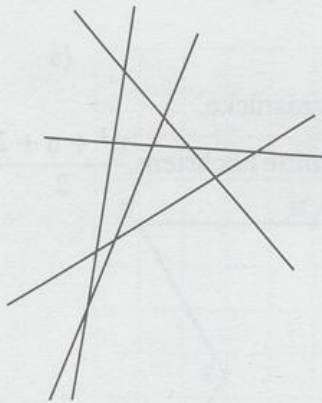
g) 8 Schnittpunkte



h) 9 Schnittpunkte



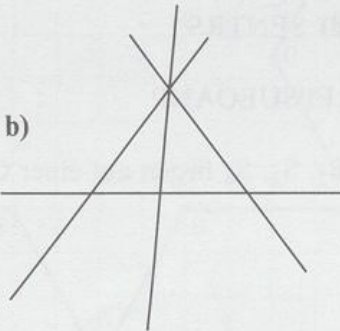
i) 10 Schnittpunkte



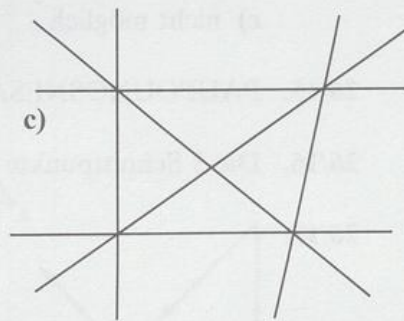
24/8. a)



b)



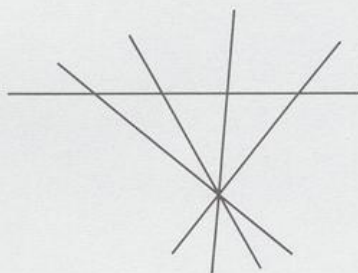
c)



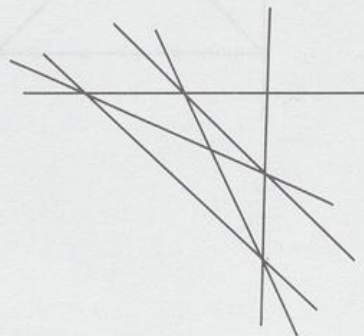
24/9. a) 1 Gerade



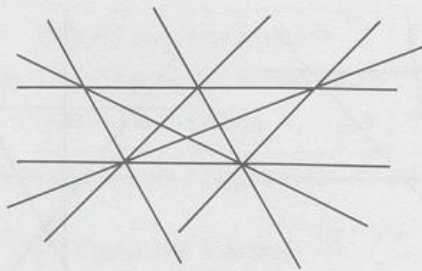
b) 5 Geraden



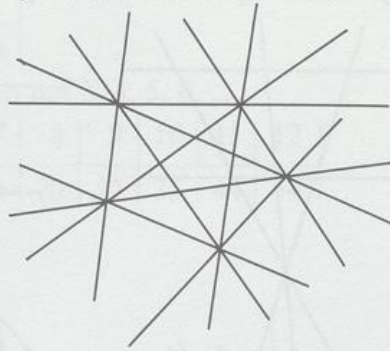
c) 6 Geraden



d) 8 Geraden



e) 10 Geraden



24/10. 8 Möglichkeiten; Entfernungen: 10, 0, 6, 4.

25/11. Es gilt 12 offene Streckenzüge.

25/12. Es ergeben sich mindestens 6, höchstens 16 Pizzastücke.

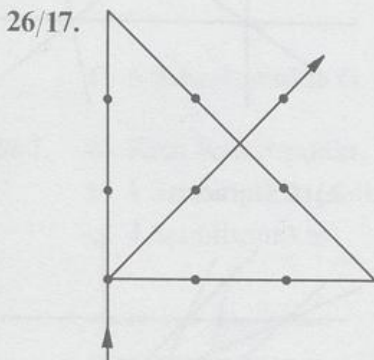
(Allgemein ergeben sich durch n geradlinige Schnitte höchstens $\frac{n^2 + n + 2}{2}$ Teile.)

25/13. Die Punkte X, Y, Z liegen auf einer Geraden.

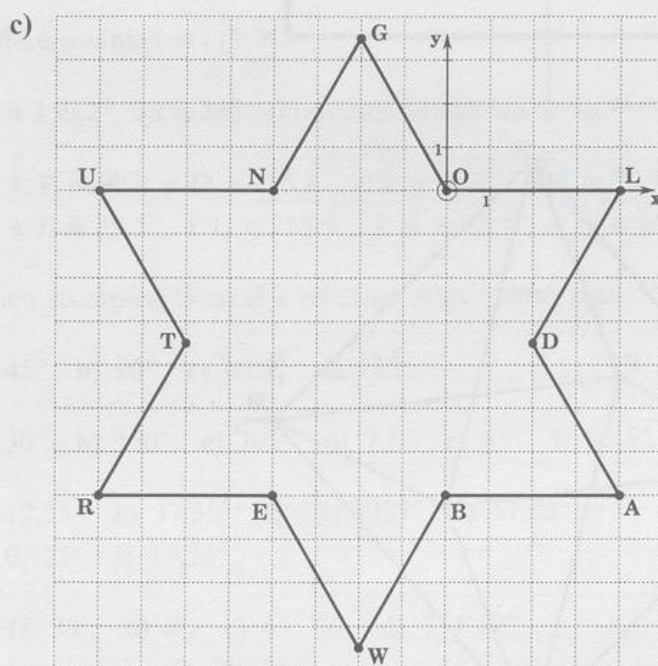
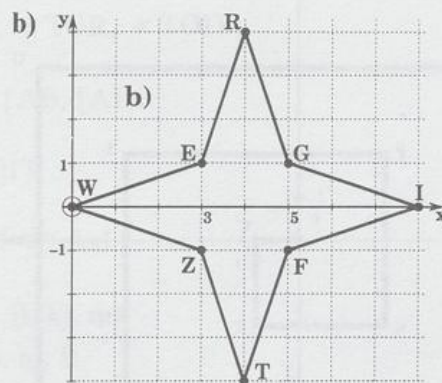
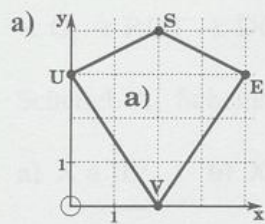
25/14. a) VIOLVAL b) EPATENPTN
c) nicht möglich d) SENTRS

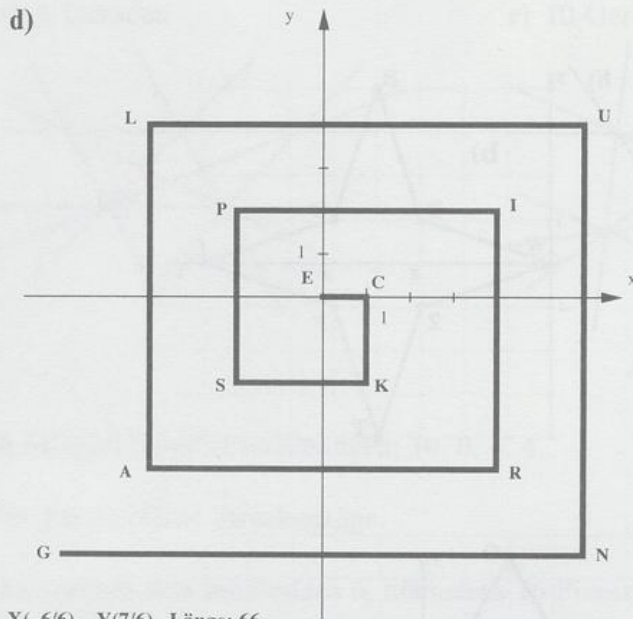
26/15. PAUPOUNOSNESAEPSUEOANP

26/16. Die 3 Schnittpunkte S_2 , S_3 , S_4 liegen auf einer Geraden.

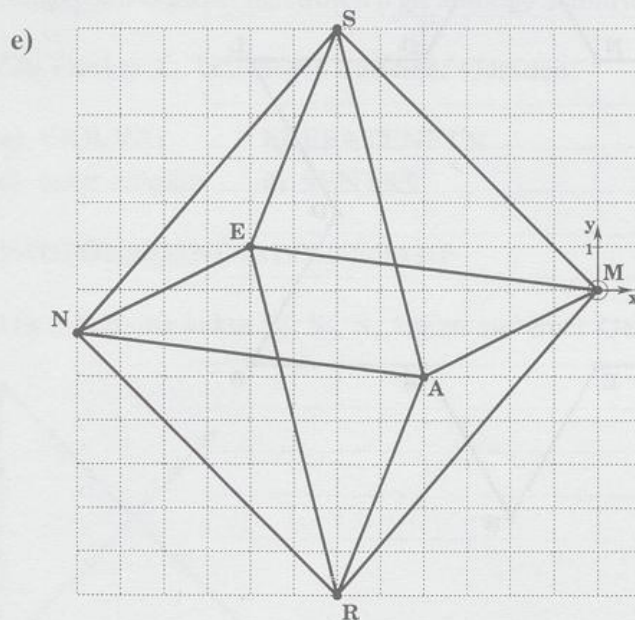


26/18.





$X(-6/6)$, $Y(7/6)$, Länge: 66



- 27/19. a) $P(-5/6)$, $O(0/0)$, $S(8/0)$, $A(13/6)$, $U(11/14)$, $N(4/17)$, $E(-3/14)$
 b) $P(-16/-8)$, $O(-11/-14)$, $S(-3/-14)$, $A(2/-8)$, $U(0/0)$, $N(-7/3)$,
 $E(-14/0)$

Aufgaben zu 2.2

29/2. Das Loch wird zum Kreis.

- 29/3. $s < 2r$: 2 Lösungen
 $s = 2r$: 1 Lösung
 $s > 2r$: keine Lösung

Aufgaben zu 2.3

36/1. ✕ O, ✕ ROT, ✕ DOT, ✕ TOR, ✕ TOD

36/2. Scheitel: A, Schenkel: [AB, [AD.

36/4. a) $X \in]IP$ b) $X \in]IT$

36/5. a) 10 Winkel b) 21 Winkel

37/6. Konkav: a), f), g), i), j), k), m).
Konvex: b), c), d), e), h), l).

37/7. Ein Sehnenlängenvergleich zeigt: $\mu < \omega < \tau$.

37/9. Differenzwinkel $\approx 119,7^\circ$.

38/10. $4\mu \approx 159,2^\circ$, $5\mu \approx 161^\circ$ (konvexes Maß!): $4\mu \approx 5\mu$.

38/11. a) ✕ $R = 90^\circ$, ✕ $O \approx 116,6^\circ$, ✕ $S \approx 56,3^\circ$, ✕ $A \approx 97,1^\circ$
b) ✕ $B \approx 35,5^\circ$, ✕ $L \approx 215,5^\circ$, ✕ $A \approx 43,2^\circ$, ✕ $U \approx 65,8^\circ$.

38/12. Einen stumpfen Winkel α zeichnet man, indem man $360^\circ - \alpha$ anträgt.

38/13. a) 45° b) 90° c) $67,5^\circ$ d) 135° .

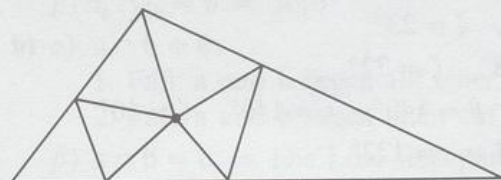
39/14. a) 30° b) 150° c) 105° d) $7,5^\circ$ e) 65° f) $90,5^\circ$.

39/15. a) $12,25^\circ$ b) $37,35^\circ$ c) $241,0025^\circ$ d) $57,95^\circ$
e) $0,125^\circ$ f) $17,24^\circ$.

39/16. a) $18^\circ 30'$, b) $6'$, c) $45^\circ 27'$, d) $7^\circ 4' 12''$,
e) $15^\circ 13' 48''$, f) $9^\circ 9' 9''$.

39/17. spitze Winkel: ✕ ABU, ✕ EAU, ✕ SAD, ...
rechte Winkel: ✕ BAU, ✕ SAU, ✕ DUA
stumpfe Winkel: ✕ BAE, ✕ AEU, ✕ BUD, ...
gestreckte Winkel: ✕ BAS, ✕ AED, ✕ SEU.

39/18. Es entstehen 7 spitzwinklige Dreiecke.



39/19. a) 33° b) $46,6^\circ$ c) $88^\circ 56'$ d) $31^\circ 1' 2''$.

39/20. a) 67° b) $151,13^\circ$ c) $7^\circ 13'$ d) $100^\circ 59' 11''$.

39/21. a) $\eta = 60^\circ$, $\vartheta = 60^\circ$, $\lambda = 30^\circ$.

b) $\alpha = 42^\circ$, $\beta = 48^\circ$, $\gamma = 42^\circ$, $\delta = 48^\circ$, $\varepsilon = 132^\circ$.

Aufgaben zu 2.4

41/1. $\alpha = 47^\circ$, $\alpha_1 = 407^\circ$, $\alpha_2 = 767^\circ$
 $\beta = -47^\circ$, $\beta_1 = -407^\circ$, $\beta_2 = -767^\circ$.

41/2. a) -225° b) -2700°

41/3. a) 1440° b) -1980° c) 1530° d) -1710° .

41/5. -48000°

42/6. a) $-90^\circ + 45^\circ + 90^\circ - 135^\circ + 135^\circ = 45^\circ$

b) $-142^\circ + 65^\circ + 90^\circ - 57^\circ + 133^\circ = 89^\circ$

Geometrische Bedeutung: Drehung insgesamt um 45° bzw. 89° nach links.

3. Kapitel

Aufgaben zu 3.2

46/1. a) $\alpha = 120^\circ$, $\alpha^* = 60^\circ$
b) $\alpha = 135^\circ$, $\alpha^* = 45^\circ$
c) $\alpha = 60^\circ$, $\alpha^* = 120^\circ$
d) $\alpha = 170^\circ$, $\alpha^* = 10^\circ$.

46/2. a) $\alpha = 95^\circ$, $\alpha^* = 85^\circ$
b) $\alpha = 85^\circ$, $\alpha^* = 95^\circ$
c) $\alpha = 135^\circ$, $\alpha^* = 45^\circ$
d) $\alpha = 89^\circ 59' 30''$, $\alpha^* = 90^\circ 30''$.

46/3. $\alpha^* + \beta^* + \gamma^* = 360^\circ$.

46/4. $\alpha^* + \beta^* + \gamma^* + \delta^* = 360^\circ$.

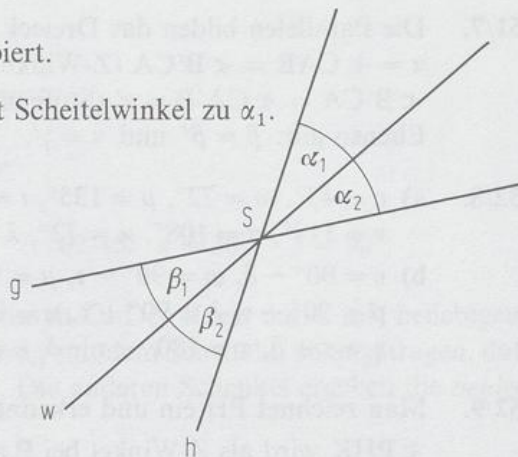
46/5. a) $\beta = 130^\circ$, $\gamma = 23^\circ$, $\delta = 27^\circ$, $\zeta = 23^\circ$
b) $\gamma = 72^\circ$, $\delta = 14,2^\circ$, $\varepsilon = 93,8^\circ$, $\zeta = 72^\circ$
c) $\gamma = 10^\circ$, $\delta = 30^\circ$, $\alpha = 30^\circ$, $\beta = 140^\circ$, $\varepsilon = 140^\circ$, $\zeta = 10^\circ$
d) $\alpha = \delta = 29^\circ$, $\gamma = \zeta = 29^\circ$, $\beta = \varepsilon = 122^\circ$.

46/6. $\varphi = 180^\circ - 4\vartheta$, $\tau = \vartheta$, $\mu = 180^\circ - 4\vartheta$, $\psi = 3\vartheta$.

46/7. $\alpha_1 = \alpha_2 = \frac{\alpha}{2}$, da w den Winkel α halbiert.

β_1 ist Scheitelwinkel zu α_2 , und β_2 ist Scheitelwinkel zu α_1 .

Also: $\beta_1 = \beta_2 = \frac{\alpha}{2}$.



47/8. a) $\psi = 90^\circ$ b) $\psi = 90^\circ$, da $\omega + \omega^* = 180^\circ$ und $\psi = \frac{\omega + \omega^*}{2}$.

Aufgaben zu 3.3

- 50/1. a) $\alpha' = 35^\circ, \beta = \beta' = 145^\circ, \gamma = \gamma' = 35^\circ, \delta = \delta' = 145^\circ$
 b) $\beta' = 135^\circ, \alpha = \alpha' = 45^\circ, \gamma = \gamma' = 45^\circ, \delta = \delta' = 135^\circ$
 c) $\gamma = 87,7^\circ, \alpha = \alpha' = 87,7^\circ, \beta = \beta' = 92,3^\circ, \delta = \delta' = 92,3^\circ$
 d) $\delta' = 123^\circ 45', \alpha = \alpha' = 56^\circ 15', \beta = \beta' = 123^\circ 45', \gamma = \gamma' = 56^\circ 15'$.

- 51/2. a) Alle Winkel sind 90° .
 b) Die Winkel sind 32° bzw. 148° .
 c) Die Winkel sind 60° bzw. 120° .

51/3. $\alpha = \gamma = \zeta = \lambda = \varphi = \omega = \mu = \xi$
 $\beta = \delta = \chi = \psi$
 $\tau = \sigma = \vartheta = \eta$
 $\nu = \nu = \kappa = \varepsilon$.

- 51/4. a) $\alpha^* = \varepsilon = 52^\circ$, also $AD \parallel BC$
 b) $\alpha^* = 32^\circ 13' \neq \varepsilon$, also $AD \nparallel BC$.

- 51/5. a) $g \parallel h$ b) $g \parallel h$ c) $g \perp h$ d) $g \perp h$.

- 51/6. a) $l_a \cap l_b \neq \emptyset$:
 1. Fall: $l_a \neq l_b \Rightarrow a \nparallel b$
 2. Fall: $l_a = l_b \Rightarrow a \parallel b$
 $\beta) l_a \cap l_b = \emptyset \Rightarrow a \parallel b$
 b) $\alpha) a \cap b \neq \emptyset$:
 1. Fall: a und b liegen auf einer Geraden $\Rightarrow l_a \parallel l_b$
 2. Fall: a und b liegen nicht auf einer Geraden $\Rightarrow l_a \cap l_b \neq \emptyset$
 $\beta) a \cap b = \emptyset \Rightarrow$ Die Lote sind parallel, oder sie schneiden sich (also keine Aussage möglich).
 $\gamma) a \parallel b \Rightarrow l_a \parallel l_b$.

51/7. Die Parallelen bilden das Dreieck $A'B'C'$, wobei A' gegenüber von A liege.
 $\alpha = \sphericalangle CAB = \sphericalangle B'CA$ (Z-Winkel)
 $\sphericalangle B'CA = \sphericalangle CA'B = \alpha'$ (Stufenwinkel)
 Ebenso gilt: $\beta = \beta'$ und $\gamma = \gamma'$.

52/8. a) $\nu = 45^\circ, \omega = 72^\circ, \mu = 135^\circ, \iota = 45^\circ, \psi = 135^\circ,$
 $\nu = 117^\circ, \sigma = 108^\circ, \kappa = 72^\circ, \lambda = 108^\circ, \eta = 63^\circ, \alpha = 117^\circ, \varepsilon = 63^\circ$
 b) $\nu = 90^\circ - \delta, \omega = 90^\circ - \tau, \mu = 90^\circ + \delta, \iota = 90^\circ - \delta, \psi = 90^\circ + \delta,$
 $p = 90^\circ + \tau, \lambda = 90^\circ + \tau, \kappa = 90^\circ - \tau, \nu = 180^\circ - \tau - \delta,$
 $\eta = \tau + \delta, \alpha = 180^\circ - \tau - \delta, \varepsilon = \tau + \delta.$

52/9. Man zeichnet PH ein und erkennt:
 $\sphericalangle PHK$ wird als Z-Winkel bei P angetragen.

Aufgaben zu 3.4 und 3.5

60/1. a) $\gamma = 10^\circ, \gamma^* = 170^\circ, \beta^* = 45^\circ, \alpha^* = 145^\circ$
 b) $\alpha = 94,7^\circ, \alpha^* = 85,3^\circ, \beta^* = 96,3^\circ, \gamma^* = 178,4^\circ$
 c) $\beta = 138^\circ, \gamma = 18^\circ, \gamma^* = 162^\circ, \alpha^* = 156^\circ$
 d) $\beta = 40^\circ, \gamma = 57^\circ, \alpha = 83^\circ, \alpha^* = 97^\circ.$

60/2. a) $\beta^* = 90^\circ \Rightarrow \beta = 90^\circ$. Also $\alpha + \beta = 180^\circ \quad \downarrow$
 b) $\alpha + \beta + \gamma = 180^\circ \quad \downarrow$
 c) $\alpha^* = 90^\circ \Rightarrow \alpha = 90^\circ, \beta = 80^\circ, \gamma = 10^\circ$
 d) $\left. \begin{array}{l} \alpha^* = 60^\circ \Rightarrow \alpha = 120^\circ \\ \beta^* = 60^\circ \Rightarrow \beta = 120^\circ \end{array} \right\} \Rightarrow \alpha + \beta = 240^\circ \quad \downarrow$

60/3. a) $\beta = 37^\circ$ b) $\beta = 45^\circ$ c) $\beta = 0,45^\circ$ d) nicht möglich e) $\beta = 30^\circ$.

60/4. a) $\alpha = 70^\circ$ b) $\alpha = 36^\circ$ c) $\alpha = 40^\circ$ d) $\alpha = 60^\circ$.

60/5. Faul ist: Bei diesem „Beweis“ wird vorausgesetzt, daß die Winkelsumme in jedem Dreieck gleich ist.
 Bewiesen wurde: Wenn die Winkelsumme in jedem Dreieck gleich ist, so beträgt sie 180° .

61/6. a) $\delta = 67^\circ$ b) $\alpha = \beta = \gamma = 92^\circ$ c) $\alpha = 172,8^\circ, \beta = 86,4^\circ, \gamma = 57,6^\circ,$
 $\delta = 43,2^\circ$ d) $\alpha = \beta = 120^\circ.$

61/7. $\sphericalangle A \approx 26,5^\circ, \sphericalangle B \approx 45^\circ, \sphericalangle C \approx 211^\circ, \sphericalangle D \approx 32,5^\circ, \sphericalangle E \approx 225^\circ$
 Die Summe sollte (etwa) 540° ergeben.

61/8. Winkelsumme im Sechseck + Winkelsumme im Dreieck = Winkelsumme im Siebeneck.

61/9. a) $\sphericalangle SAB = 90^\circ, \sphericalangle ABS \approx 83^\circ \Rightarrow \sphericalangle BSA \approx 7^\circ$
 b) Man zeichnet in B die Parallele zu g und mißt $\sphericalangle (g, h) \approx 7^\circ$.

61/10. a) $\sigma = 60^\circ$ b) $\sigma = 60^\circ$ c) $\sigma = 180^\circ - 2\gamma$ ($\gamma = 45^\circ \Rightarrow \sigma = 90^\circ,$
 $\gamma = 90^\circ \Rightarrow \sigma = 0^\circ$).

62/11. $\beta = 60^\circ$, $\alpha = 30^\circ$.

62/12. $\delta = 30^\circ$, $\tau = 70^\circ$, $\sigma = \tau + 50^\circ = 120^\circ$.

62/13. $\gamma = 70^\circ$, $\beta = \gamma + \tau = 100^\circ$, $\alpha = 40^\circ$.

62/14. $\beta = 80^\circ$, $\alpha = 50^\circ$.

62/15. $\alpha = 30^\circ$, $\beta = 90^\circ$.

63/16. Man zeichnet die Parallele g zu AB durch C . Der Kreis um C mit beliebigem Radius schneidet g in S und T . Nun wird γ mit dem Scheitel C so angetragen, daß $[CS$ bzw. $[CT$ ein Schenkel von γ ist. Die anderen Schenkel ergeben die *beiden* gesuchten Geraden.

63/17. $\sigma = 48^\circ$, $\vartheta = 100^\circ$.

63/18. $\varepsilon = 27^\circ$, $\mu = 117^\circ$.

63/19. $\beta = 49^\circ$, $\gamma = 36^\circ$. Wegen $\gamma \neq \omega$ gilt $AB \nparallel CD$.

64/20. $\varepsilon = 70^\circ$, $\delta = 70^\circ$.

64/21. $i_1 = 115^\circ$, $i_2 = 65^\circ$.

64/22. $\varrho_1 = 100^\circ$, $\varrho_2 = 132^\circ$, $\varrho_3 = 138^\circ$, $\varrho_4 = 80^\circ$.

64/23. $\varphi_1 = 124^\circ$, $\varphi_2 = 112^\circ$, $\varphi_3 = 128^\circ$, $\varphi_4 = 142^\circ$, $\varphi_5 = 68^\circ$.

64/24. $\alpha = 70^\circ$, $\beta = 45^\circ$, $\gamma = 65^\circ$.

65/25. $v_1 = 102^\circ$, $v_2 = 96^\circ$, $v_3 = 84^\circ$, $v_4 = 114^\circ$, $v_5 = 66^\circ$, $v_6 = 132^\circ$,
 $\sigma_1 = 48^\circ$, $\sigma_2 = 114^\circ$, $\sigma_3 = 66^\circ$, $\sigma_4 = 96^\circ$, $\sigma_5 = 84^\circ$, $\sigma_6 = 78^\circ$.

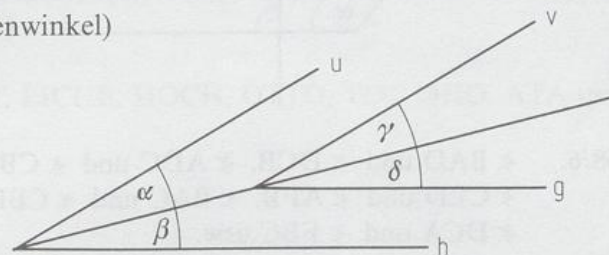
65/26. $\tau_1 = 54^\circ$, $\tau_2 = 106^\circ$, $\tau_3 = 74^\circ$, $\tau_4 = 86^\circ$, $\tau_5 = 94^\circ$, $\tau_6 = 66^\circ$,
 $\tau_7 = 114^\circ$, $\tau_8 = 46^\circ$,
 $v_1 = 126^\circ$, $v_2 = 74^\circ$, $v_3 = 106^\circ$, $v_4 = 94^\circ$, $v_5 = 86^\circ$, $v_6 = 114^\circ$,
 $v_7 = 66^\circ$, $v_8 = 134^\circ$.

65/27. Innenwinkelsumme: 1440°
 Außenwinkelsumme: 360° .

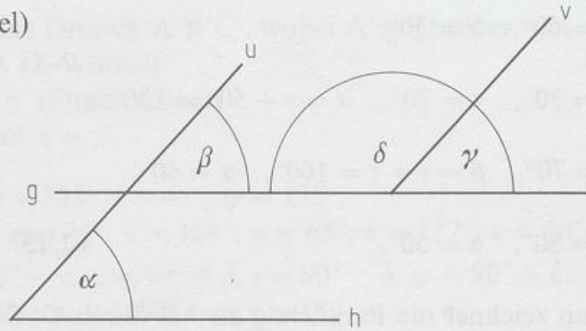
65/28. 160° .

Aufgaben zu 3.6

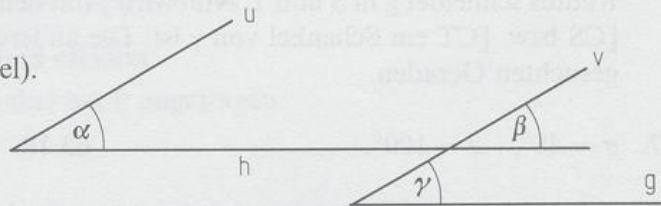
67/1. Wegen $\alpha = \gamma$ und $\beta = \delta$ (Stufenwinkel) gilt $\sphericalangle(u, h) = \sphericalangle(v, g)$.



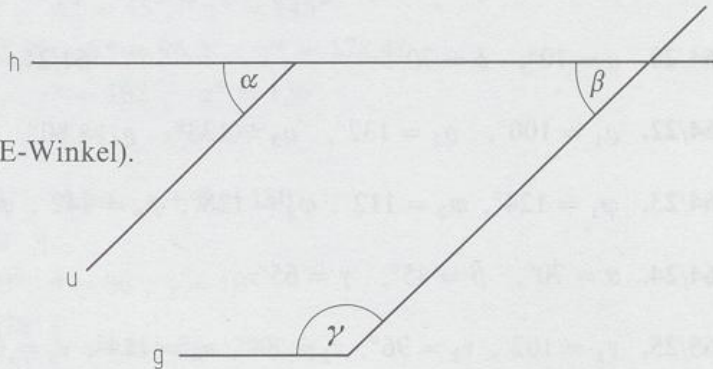
- 67/2. $\alpha = \beta = \gamma$ (Stufenwinkel)
 $\alpha + \delta = \gamma + \delta = 180^\circ$.



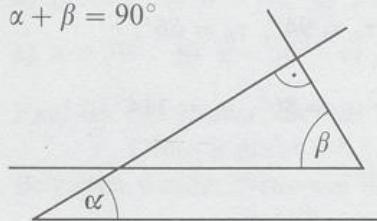
- 67/3. $\alpha = \beta = \gamma$ (Stufenwinkel).



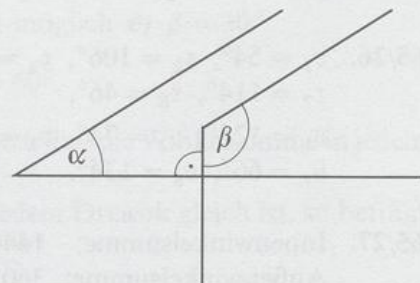
- 68/4. $\alpha = \beta$ (Stufenwinkel)
 $\alpha + \gamma = \beta + \gamma = 180^\circ$ (E-Winkel).



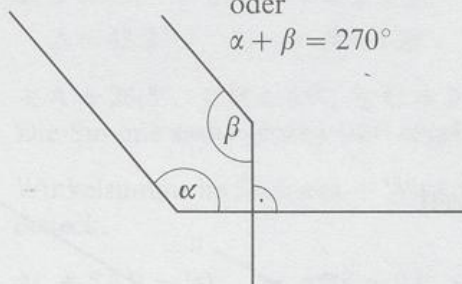
- 68/5. $\alpha + \beta = 90^\circ$



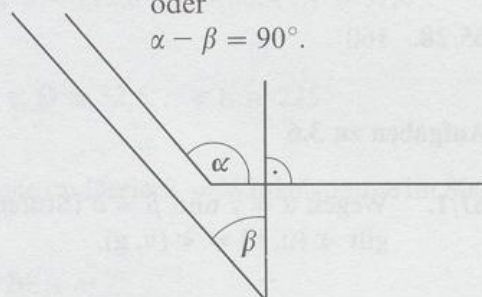
oder
 $\beta - \alpha = 90^\circ$



oder
 $\alpha + \beta = 270^\circ$



oder
 $\alpha - \beta = 90^\circ$



- 68/6. $\sphericalangle BAD$ und $\sphericalangle DCB$, $\sphericalangle ADC$ und $\sphericalangle CBA$,
 $\sphericalangle CED$ und $\sphericalangle AFB$, $\sphericalangle BAC$ und $\sphericalangle CBF$,
 $\sphericalangle DCA$ und $\sphericalangle FBC$ usw.

68/7. \sphericalangle BAD und \sphericalangle DCB, \sphericalangle ADC und \sphericalangle CBA,
 \sphericalangle EFG und \sphericalangle GHE, \sphericalangle FGH und \sphericalangle HEF,
 \sphericalangle HAD und \sphericalangle DHG, \sphericalangle EFB und \sphericalangle FCB usw.

68/8. Die Schenkel von \sphericalangle N_1ON_2 und v_1 stehen paarweise senkrecht (usw.)

$$\Rightarrow v_i = \varepsilon = \frac{360^\circ}{16} = 22,5^\circ.$$

69/9. \sphericalangle (h, u) = 50°

\sphericalangle (g, h) = 40°

\sphericalangle (g, v) = 50°

69/10. $\varphi = 18^\circ$, $\varepsilon_1 + 4\varphi = 90^\circ \Rightarrow \varepsilon_1 = 18^\circ$
 $\varepsilon_1 + \varepsilon_2 + 3\varphi = 90^\circ \Rightarrow \varepsilon_2 = 18^\circ$
 $\varepsilon_3 = 18^\circ$, $\varepsilon_4 = 18^\circ$
 $v_1 = v_2 = v_3 = v_4 = 18^\circ$.

4. Kapitel

Aufgaben zu 4.1

77/1. Rechteck: 2, Quadrat: 4, Halbkreis: 1, Kreuz: 4.

77/2. a) 1, b) 2, c) 1, d) 2, e) 4, f) 1.

77/3. a) nein, b) 2, c) 1, d) 1, e) 3, f) nein.

77/4. A(1), B(1), C(1), D(1), E(1), H(2), I(2), K(1), M(1), O (unendlich viele), T(1), U(1), V(1), W(1), X(2), Y(1).

78/5. AHA, UHU, OB, DIE, TAT, EICHE, HOCH, OTTO, TOT, OHO, ATA usw.

78/6. 4 Symmetrieachsen.

78/7. 90° .

Aufgaben zu 4.2

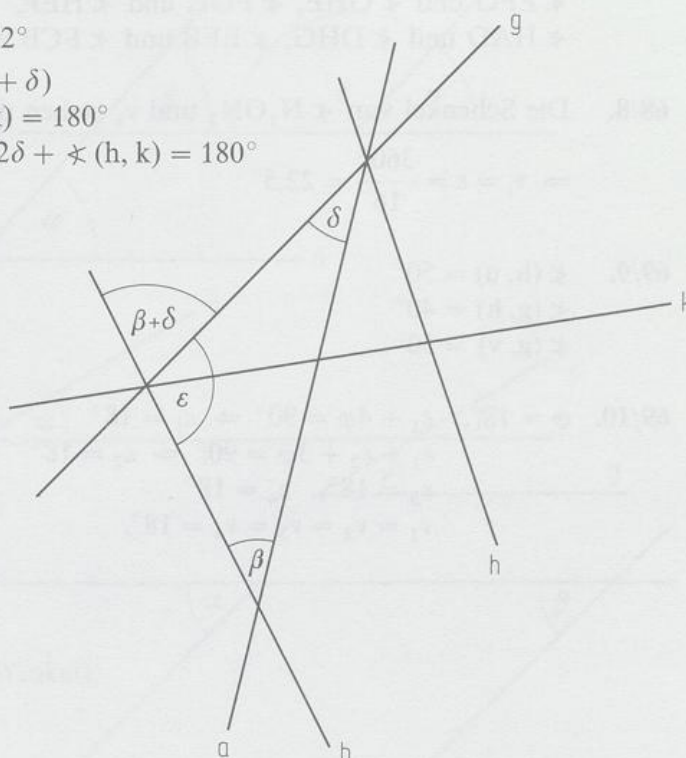
80/3. b) $\beta = 41^\circ$, $\sphericalangle(h, k) = 82^\circ$

c) $\sphericalangle(g, k) = 180^\circ - 2(\beta + \delta)$

$\sphericalangle(g, k) + 2\delta + \sphericalangle(h, k) = 180^\circ$

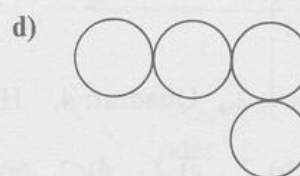

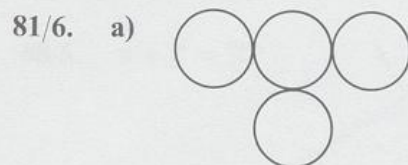
$\Rightarrow 180^\circ - 2(\beta + \delta) + 2\delta + \sphericalangle(h, k) = 180^\circ$

$\sphericalangle(h, k) = 2\beta$.



81/5. a) Drachenviereck oder gleichschenkliges Trapez

b) Rechteck oder Raute.



81/7. a) 4 Punkte (P' , Q' , V' , S') b) 3 Punkte (M' , A' , B') c) 2 Punkte (V' , O').

82/8. Die Mittelsenkrechten schneiden sich in einem Punkt.

82/9. $M_1 M_2$ und die Mittelsenkrechte von $[M_1 M_2]$ sind die Symmetrieachsen.

82/10. $m_{AB} \cap m_{BC} = \{M\}$

82/11. a) Man konstruiert die Winkelhalbierenden.

b) Man konstruiert die Mittellparallele und ein Lot zu ihr.

82/12. Man konstruiert zu 2 Sehnen die Mittelsenkrechten. Ihr Schnittpunkt ist M.

Aufgaben zu 4.3

87/8. Die Innenwinkel des entstehenden Vierecks sind jeweils 90° , also liegt ein Rechteck vor. Da in diesem Rechteck die Diagonalen Symmetrieachsen sind, ist es ein Quadrat.

Gilt $a = 2b$, so liegen 2 Quadratecken auf Rechteckseiten.

87/13. A: Lotfußpunkt, B: Lotfußpunkt, C: Symmetrischer Punkt bezügl. x-Achse, D: Symmetrischer Punkt bezügl. y-Achse, E: PE läuft durch den Ursprung, F: Symmetrischer Punkt bezügl. $w_{I,III}$.

87/14. C(9,1/5), D(3,1/6,5).

87/15. A(3/0), C(7/8).

87/16. B(-1,3/2,5), D(-11,7/5,5) (von C aus das Lot fällen).

87/17. a) $h = 144$ m, b) $h = 248,5$ m.

87/18. a) 219,6 m, b) 300 m, c) 395,4 m.

87/19. Für $\alpha = 30^\circ$: „Untere Hälfte“ von g: 395,4 m

Für $\alpha = 120^\circ$: „Untere Hälfte“ von g: 219,6 m

Für $\alpha = 60^\circ$ fallen scheinbare und wirkliche Mitte zusammen.

87/20. a) $M_1(3,9/7)$, $M_2(4,7/7)$, $M_3(6,6/7)$

b) Der Torwart sollte dort stehen, wo die Winkelhalbierende die Torlinie trifft, also in $M_3(6,6/7)$.

Aufgaben zu 4.4

91/1. Konstruierbar sind: 30° , 45° , 63° , 87° , 171° .

91/2. a) $22,5^\circ = \frac{90^\circ}{4}$ b) $135^\circ = 90^\circ + \frac{90^\circ}{2}$ c) $75^\circ = 60^\circ + \frac{60^\circ}{4}$

d) $82,5^\circ = 60^\circ + \frac{60^\circ}{4} + \frac{60^\circ}{8}$ e) $72^\circ = 2 \cdot 36^\circ$ f) $9^\circ = \frac{36^\circ}{4}$.

91/3. a) $52,5^\circ = 60^\circ - \frac{60^\circ}{8}$ b) $142,5^\circ = 2 \cdot 60^\circ + \frac{90^\circ}{4}$ c) $41,25^\circ = \frac{60^\circ}{2} + \frac{90^\circ}{8}$

d) $3^\circ = \frac{60^\circ}{8} - \frac{36^\circ}{8}$ e) $40,5^\circ = 36^\circ + \frac{36^\circ}{8}$ f) $151,5^\circ = 4 \cdot 36^\circ + \frac{60^\circ}{8}$

g) $111^\circ = 2 \cdot 60^\circ - \frac{36^\circ}{4}$.

Aufgaben zu 4.5

97/2. b) $EE' \perp ST$

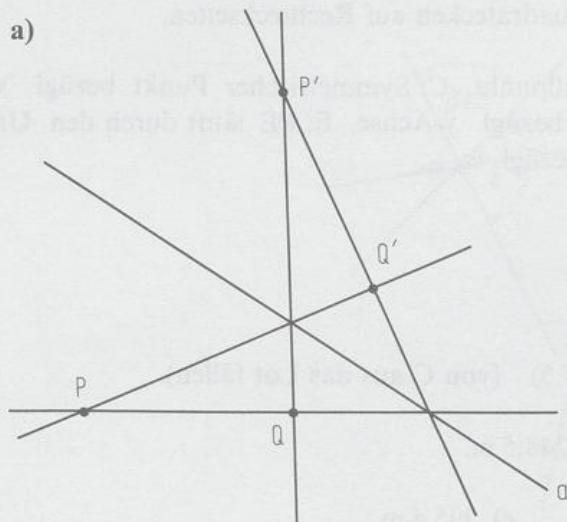
c) $\{M\} = ST \cap m_{BC}$.

97/3. Gar nichts.

97/4. Natürliche Zahlen mit ihrem Spiegelbild.

97/5. $180^\circ - 2\beta$.

98/6. a)



b) analog a).

c) Man wählt einen Hilfspunkt H (z.B. auf der Seite von Q, aber $H \notin P'Q$).

98/7. a) X (5/0) b) X (3/0)

(Spiegelung von B an der x-Achse liefert X).

98/8. Spiegelung von K an RS liefert A (3/4,5).

98/9. Man spiegelt R zuerst an y und erhält R' . R' wird an x gespiegelt und ergibt R'' . SR'' legt die Stoßrichtung fest.

98/10. Man spiegelt R an AD, R' an AB und R'' an CD.

98/11. Man spiegelt R an CD, R' an BC, R'' an AB und R''' an AD.

98/12. a) $\sphericalangle C'AB' = 3\alpha = 180^\circ$

b) $\sphericalangle B'CA' = 3\gamma = 240^\circ \Rightarrow \sphericalangle A'CB' = 120^\circ < 180^\circ$

c) $\sphericalangle A'BC' = 3\beta = 120^\circ \Rightarrow \sphericalangle C'BA' = 240^\circ > 180^\circ$.

99/13. a) Gleichseitiges Dreieck

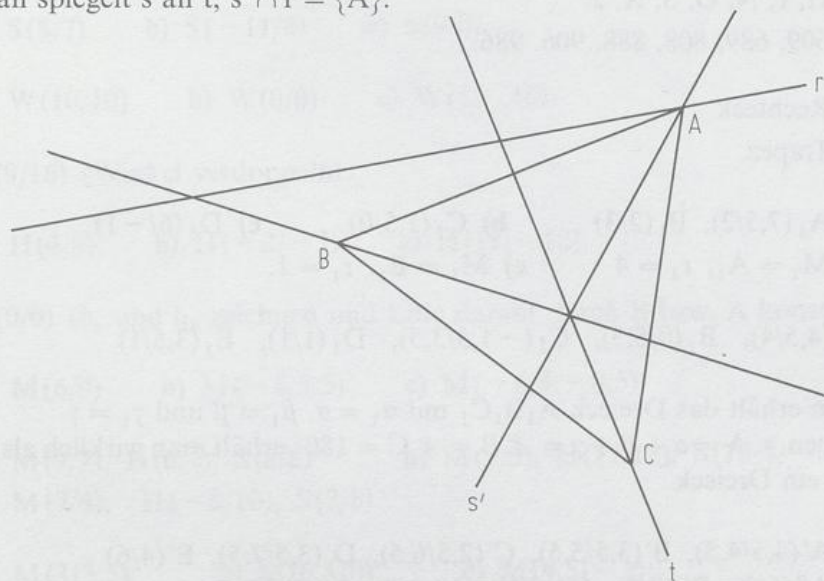
b) z.B.: $\alpha = 30^\circ, \beta = 80^\circ, \gamma = 70^\circ \Rightarrow A$ liegt außerhalb von $\triangle A'B'C'$

c) z.B.: $\alpha = 30^\circ, \beta = 40^\circ, \gamma = 110^\circ \Rightarrow A$ und B liegen außerhalb von $\triangle A'B'C'$

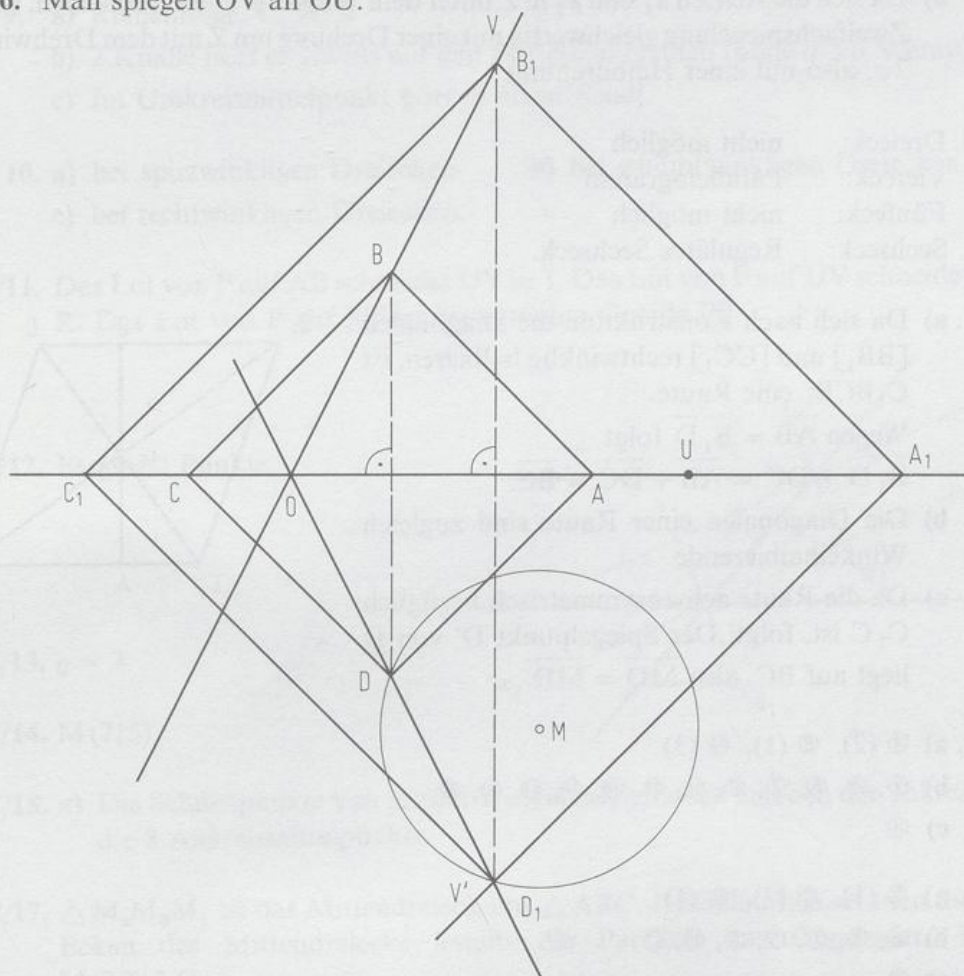
d) z.B.: $\alpha = 40^\circ, \beta = 120^\circ, \gamma = 20^\circ \Rightarrow A, B$ und C liegen außerhalb von $\triangle A'B'C'$.

99/14. Man spiegelt s an r ; $s' \cap t = \{D\}$.

99/15. Man spiegelt s an t ; $s' \cap r = \{A\}$.



99/16. Man spiegelt OV an OU .



Aufgaben zu 4.6

- 103/2. a) H, I, N, O, S, X, Z
b) 609, 689, 808, 888, 906, 986.

- 103/3. a) Rechteck
b) Trapez.

- 103/4. a) $A_1(7,5/2)$, $B_1(2/3)$ b) $C_1(1,5/0)$ c) $D_1(6/-1)$
d) $M_1 = A_1$, $r_1 = 4$ e) $M_1 = B_1$, $r_1 = 1$.

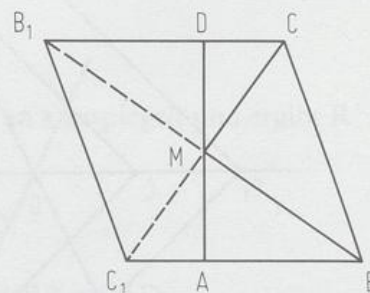
- 103/5. $A_1(4,5/4)$, $B_1(0/5,5)$, $C_1(-1,5/3,5)$, $D_1(1/1)$, $E_1(3,5/1)$.

- 103/8. Man erhält das Dreieck $A_1B_1C_1$ mit $\alpha_1 = \alpha$, $\beta_1 = \beta$ und $\gamma_1 = \gamma$.
Wegen $\angle A = \alpha + \beta + \gamma = \angle B = \angle C = 180^\circ$ erhält man wirklich als Gesamtfigur ein Dreieck.

- 103/9. a) $A'(4,5/4,5)$, $B'(3,5/5,5)$, $C'(2,5/6,5)$, $D'(3,5/7,5)$, $E'(4/6)$
 $A''(6/3)$, $B''(7/2)$, $C''(8/1)$, $D''(9/2)$, $E''(7,5/2,5)$
b) Da sich die Achsen a_1 und a_2 in Z unter dem Winkel $\varphi = 90^\circ$ schneiden, ist die Zweifachspiegelung gleichwertig mit einer Drehung um Z mit dem Drehwinkel 2φ , also mit einer Halbdrehung.

- 104/10. Dreieck: nicht möglich
Viereck: Parallelogramm
Fünfeck: nicht möglich
Sechseck: Reguläres Sechseck.

- 104/11. a) Da sich nach Konstruktion die Diagonalen $[BB_1]$ und $[CC_1]$ rechtwinklig halbieren, ist C_1BCB_1 eine Raute.
Wegen $\overline{AB} = \overline{B_1D}$ folgt
 $\overline{B_1D} + \overline{DC} = \overline{AB} + \overline{DC} = \overline{BC}$.
b) Die Diagonalen einer Raute sind zugleich Winkelhalbierende.
c) Da die Raute achsensymmetrisch bezüglich C_1C ist, folgt: Der Spiegelpunkt D' von D liegt auf BC , also $\overline{MD} = \overline{MD'}$.



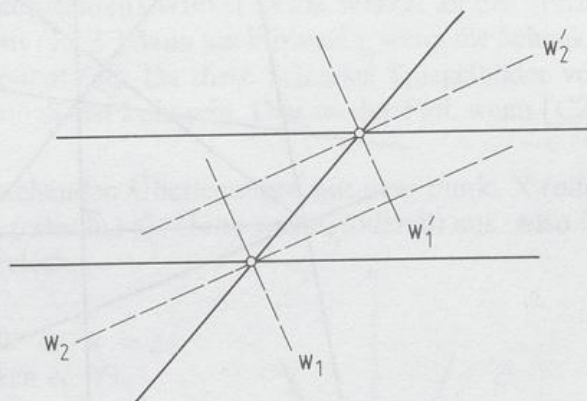
- 104/12. a) ④ (2), ⑥ (1), ⑭ (3)
b) ②, ④, ⑤, ⑦, ⑨, ⑪, ⑬, ⑮, ⑰, ⑲, ⑲, ⑲, ⑲
c) ④

- 106/13. a) ② (1), ④ (2), ⑤ (1)
b) ③, ④, ⑦, ⑧, ⑨, ⑩, ⑪
c) ④

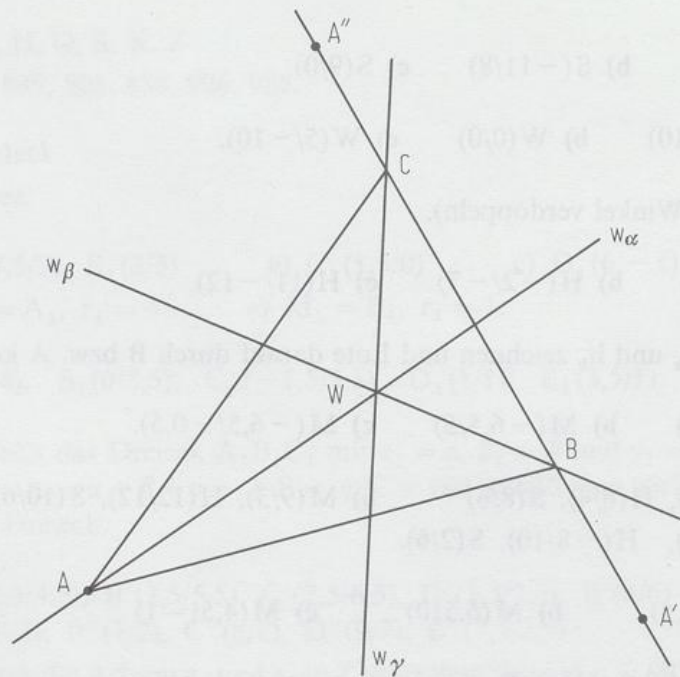
5. Kapitel

Aufgaben zu 5.1

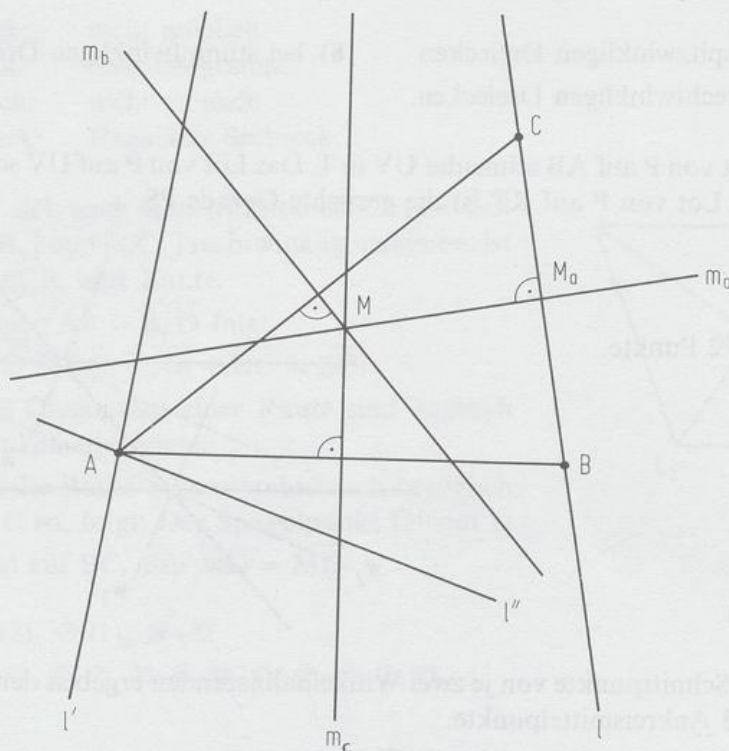
- 116/1. a) $S(8/7)$ b) $S(-11/8)$ c) $S(9/0)$.
- 116/2. a) $W(10/10)$ b) $W(0/0)$ c) $W(5/-10)$.
- 116/3. $C(9/16)$ (Winkel verdoppeln).
- 116/4. a) $H(4/8)$ b) $H(-2/-7)$ c) $H(11/-12)$.
- 116/5. $C(0/0)$ (h_a und h_b zeichnen und Lote darauf durch B bzw. A konstruieren).
- 116/6. a) $M(6/9)$ b) $M(-6,5/5)$ c) $M(-6,5/-0,5)$.
- 116/7. a) $M(9/7)$, $H(6/4)$, $S(8/6)$ b) $M(9/3)$, $H(12/12)$, $S(10/6)$
c) $M(7/4)$, $H(-8/10)$, $S(2/6)$.
- 116/8. a) $M(3|3,5)$ b) $M(6,5|0)$ c) $M(4,5|-1)$
- 116/9. a) Reihenfolge: C, A, B
b) 2 Knalle hört er jeweils auf den Mittelsenkrechten (ohne ihren Schnittpunkt)
c) Im Umkreismittelpunkt hört er einen Knall.
- 117/10. a) bei spitzwinkligen Dreiecken b) bei stumpfwinkligen Dreiecken
c) bei rechtwinkligen Dreiecken.
- 117/11. Das Lot von P auf AB schneidet UV in T. Das Lot von P auf UV schneidet AB in R. Das Lot von P auf RT ist die gesuchte Gerade PS.
- 117/12. Es gibt 2 Punkte.
- 117/13. $q = 2$
- 117/14. $M(7|5)$
- 117/15. a) Die Schnittpunkte von je zwei Winkelhalbierenden ergeben den Inkreis- bzw. die 3 Ankreismittelpunkte.
- 117/17. $\triangle M_a M_b M_c$ ist das Mittendreieck um $\triangle ABC$. Deshalb zeichnet man durch die Ecken des Mittendreiecks jeweils die Parallele zur Gegenseite; $H(6|6)$, $M(3,5|7,5)$.

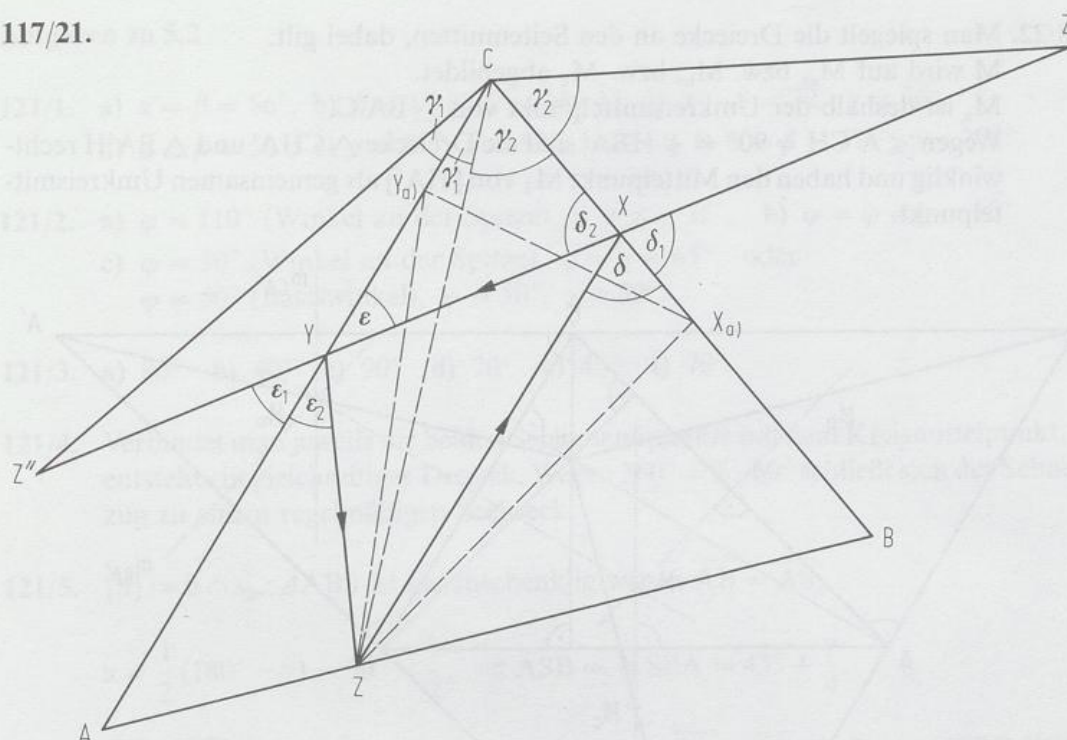


117/19. Man spiegelt A an w_β und an w_γ ; $w_\beta \cap A'A'' = \{B\}$, $w_\gamma \cap A'A'' = \{C\}$.

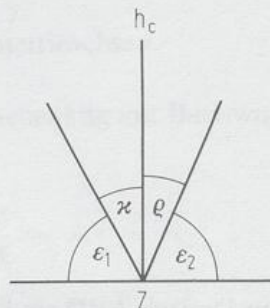


117/20. Man spiegelt l an m_c und an m_b ; $l' \cap l'' = \{A\}$.



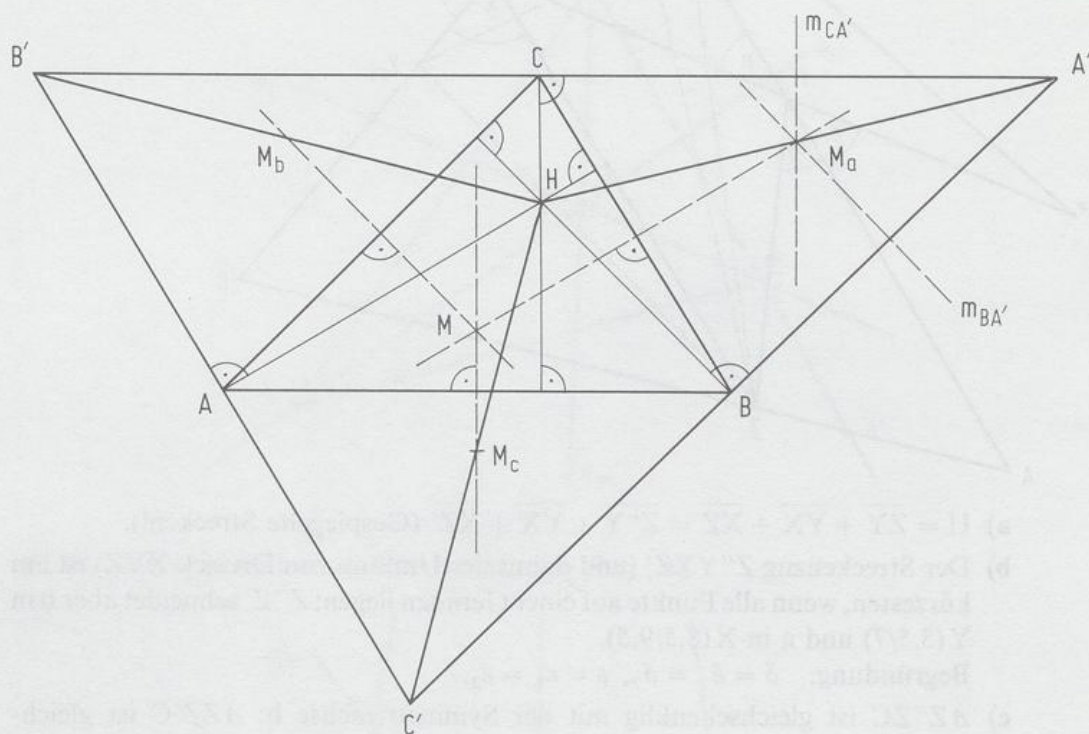


- a) $U = \overline{ZY} + \overline{YX} + \overline{XZ} = \overline{Z''Y} + \overline{YX} + \overline{XZ'}$ (Gespiegelte Strecken!).
- b) Der Streckenzug $Z''YXZ'$ (und damit der Umfang von Dreieck XYZ) ist am kürzesten, wenn alle Punkte auf einer Geraden liegen; $Z''Z'$ schneidet aber b in $Y(3,5/7)$ und a in $X(8,5/9,5)$.
Begründung: $\delta = \delta_1 = \delta_2$, $\varepsilon = \varepsilon_1 = \varepsilon_2$.
- c) $\triangle Z''ZC$ ist gleichschenkelig mit der Symmetrieachse b ; $\triangle ZZ'C$ ist gleichschenkelig mit der Symmetrieachse a .
Also: $\sphericalangle Z''CZ' = 2\gamma_1 + 2\gamma_2 = 2(\gamma_1 + \gamma_2) = 2\gamma$ (unabhängig von Z auf c).
- d) Nach c) hat $\triangle Z''Z'C$ den (konstanten) Winkel 2γ als Winkel an der Spitze. Damit ist in $\triangle Z''Z'C$ die Basis $[Z''Z']$ dann am kürzesten, wenn die Schenkel $[CZ'']$ und $[CZ']$ am kürzesten sind. Da diese Schenkel Spiegelbilder von $[CZ]$ sind, muß also $[CZ]$ möglichst kurz sein. Dies ist der Fall, wenn $[CZ]$ Höhe ist.
- e) Beginnt man bei den voranstehenden Überlegungen mit dem Punkt X (oder Y), so erhält man analog h_a (oder h_b) als Höhe von A (oder B) aus. Also ist XYZ das Höhenfußpunktdreieck.
- f) $\varepsilon_1 = \varepsilon_2$ (Reflexionsgesetz)
also: $\varepsilon_1 + \kappa = \varepsilon_1 + \varrho = 90^\circ \Rightarrow \kappa = \varrho$.
(analog an den anderen Ecken X, Y).



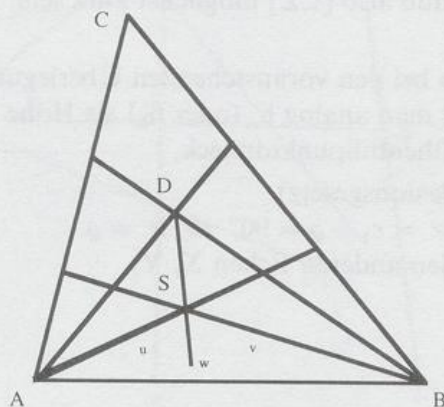
- g) Man konstruiert die Winkelhalbierenden im Dreieck XYZ und errichtet auf diesen in X, Y und Z die Lote. Diese Lote schneiden sich in den Ecken A, B, C .

- 118/22. Man spiegelt die Dreiecke an den Seitenmitten, dabei gilt:
 M wird auf M_a , bzw. M_b , bzw. M_c abgebildet.
 M_a ist deshalb der Umkreismittelpunkt von $\triangle BA'C$.
Wegen $\sphericalangle A'CH = 90^\circ = \sphericalangle HBA'$ sind die Dreiecke $\triangle CHA'$ und $\triangle BA'H$ rechtwinklig und haben den Mittelpunkt M_1 von $[HA']$ als gemeinsamen Umkreismittelpunkt.



Es ist noch zu zeigen: $M_1 = M_a$.
Da aber M_1 auf $m_{CA'}$ und ebenso auf $m_{BA'}$ liegen muß, gilt $M_1 = M_a$, denn $m_{CA'} \cap m_{BA'} = \{M_a\}$.
Für M_b und M_c verläuft der Beweis analog.

118/23.



Im Dreieck ABD sind u und v Winkelhalbierende, ihr Schnittpunkt sei S . Da w auch durch S läuft, ist also auch w Winkelhalbierende im Dreieck ABD und halbiert somit den Winkel bei $D \Rightarrow \varphi = \psi$.

Aufgaben zu 5.2

- 121/1. a) $\alpha = \beta = 56^\circ$, b) $\beta = 17,8^\circ$, $\gamma = 144,4^\circ$, c) $\alpha = \beta = 72^\circ$, $\gamma = 36^\circ$
 d) $\alpha = \beta = 50^\circ$, e) $\alpha = 82^\circ$, $\beta = 82^\circ$, $\gamma = 16^\circ$, f) $\alpha = \beta = 77\frac{1}{2}^\circ$, $\gamma = 25\frac{5}{7}^\circ$.
- 121/2. a) $\varphi = 110^\circ$ (Winkel an der Spitze), $\psi = \chi = 35^\circ$, b) $\varphi = \psi = \chi = 60^\circ$
 c) $\varphi = 50^\circ$ (Winkel an der Spitze), $\psi = \chi = 65^\circ$ oder
 $\varphi = 50^\circ$ (Basiswinkel), $\psi = 50^\circ$, $\chi = 80^\circ$.
- 121/3. a) 80° b) 40° c) 90° d) 70° e) 40° f) 70° .
- 121/4. Verbindet man jeweils die beiden Sehnenendpunkte mit dem Kreismittelpunkt, so entsteht ein gleichseitiges Dreieck. Wegen $360^\circ = 6 \cdot 60^\circ$ schließt sich der Sehnenzug zu einem regelmäßigen Sechseck.
- 121/5. $\{S\} := b \cap s_b$. $\triangle ABS$ ist gleichschenkelig wegen $\overline{AB} = \overline{AS}$,

$$\alpha = \frac{1}{2}(180^\circ - \gamma) = 90^\circ - \frac{\gamma}{2}, \quad \sphericalangle ASB = \sphericalangle SBA = 45^\circ + \frac{\gamma}{4}.$$
- 122/6. $\overline{AF} = \overline{CF}$, da $\triangle AFC$ gleichschenkelig ist, und $\overline{CF} = \overline{FB}$, da Dreieck FBC gleichschenkelig ist $\Rightarrow \overline{AF} = \overline{FB}$, also $s_c = [CF]$.
- 122/7. In dem zu zerlegenden Dreieck müßte ein Winkel 120° haben. Wegen der Winkelsumme im Dreieck sind dann aber die beiden anderen Innenwinkel ungleich 60° .
- 122/8. a) z. B.: $\alpha = \beta = 72^\circ$, $\gamma = 36^\circ$ (w_a zerlegt das Dreieck in 2 gleichschenkelige Dreiecke)
 z. B.: $\alpha = 108^\circ$, $\beta = \gamma = 36^\circ$ (α wird in 72° und 36° zerlegt).
 b) Man zerlegt α in β und 2β . ($\beta < 45^\circ$).
 c) Ist $\gamma = 90^\circ$, so zerlegt man γ in α und β .
 d) Man zerlegt $\alpha = 180^\circ - 3\beta$ in β und $180^\circ - 4\beta$, falls $\beta < 45^\circ$ ist. Ist $\beta = 45^\circ$, so gilt Fall c).
- 122/9. Jede Symmetrieachse im Dreieck muß durch eine Ecke laufen.
 Angenommen, das Dreieck ABC habe 2 Symmetrieachsen, die durch A bzw. C laufen; dann gilt: $\gamma = \beta$ und $\beta = \alpha$, also $\alpha = \beta = \gamma$.
 Das Dreieck ist also gleichseitig und hat 3 Symmetrieachsen.
- 122/10. Die Dreiecke ABM , BCM und CAM sind gleichschenkelig mit Basiswinkeln von 30° . Also besitzt Dreieck ABC drei 60° -Winkel.
- 122/11. $\triangle AIV$ ist gleichschenkelig mit den Basiswinkeln $\frac{\alpha}{2} \Rightarrow \overline{AV} = \overline{VI}$
 $\triangle BUI$ ist gleichschenkelig mit den Basiswinkeln $\frac{\beta}{2} \Rightarrow \overline{BU} = \overline{UI}$
 Insgesamt: $\overline{AV} + \overline{BU} = \overline{VI} + \overline{IU} = \overline{VU}$.

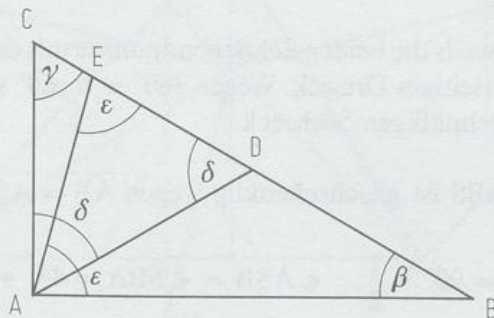
122/12. $\gamma = 90^\circ$.

122/13. a) $\triangle BDE$ ist gleichschenkelig mit den Basiswinkeln $\frac{\beta}{2} \Rightarrow \overline{DE} = \overline{EB}$.

b) $\gamma = \frac{\beta}{2}$; DE ist dann Winkelhalbierende des Winkels $\sphericalangle ADB = \beta$.

122/14. a)
$$\left. \begin{array}{l} 2\delta + \gamma = 180^\circ \\ 2\varepsilon + \beta = 180^\circ \\ \gamma + \beta = 90^\circ \end{array} \right\} \Rightarrow 2\delta + 2\varepsilon = 270^\circ$$

$$\Rightarrow \delta + \varepsilon = 135^\circ \Rightarrow \sphericalangle EAD = 180^\circ - 135^\circ = 45^\circ$$



b) $2\varepsilon + \beta = 180^\circ \Rightarrow \varepsilon = 90^\circ - \frac{\beta}{2}$, $\delta = 180^\circ - 45^\circ - \varepsilon = 45^\circ + \frac{\beta}{2}$

c) $\varepsilon = 67,5^\circ$, also $\beta = 45^\circ$. Wäre A nicht die Spitze, so wäre δ oder ε gleich 90° \perp

123/15.
$$\left. \begin{array}{l} \alpha + 2 \cdot \sphericalangle AHF = 180^\circ \\ \gamma + 2 \cdot \sphericalangle GHC = 180^\circ \end{array} \right\} \Rightarrow \sphericalangle AHF + \sphericalangle GHC = 180^\circ - \frac{\alpha + \gamma}{2}$$

$\sphericalangle FHG = 180^\circ - (\sphericalangle AHF + \sphericalangle GHC) = \frac{\alpha + \gamma}{2}$.

123/16. $\gamma_2 := \sphericalangle FCB = 180^\circ - 2\beta$

$\gamma_1 := \sphericalangle GCF = \gamma - \gamma_2 = 180^\circ - \alpha - \beta - 180^\circ + 2\beta = \beta - \alpha$

$\varepsilon := \sphericalangle BGC$: $\varepsilon + \varepsilon + \gamma = 180^\circ \Rightarrow \varepsilon = 90^\circ - \frac{\gamma}{2} = \frac{\alpha + \beta}{2}$

$\delta := \sphericalangle FGC$: $2\delta + \gamma_1 = 180^\circ \Rightarrow \delta = 90^\circ - \frac{\gamma_1}{2} = 90^\circ - \frac{\beta - \alpha}{2}$

$\Rightarrow \sphericalangle GFA = 180^\circ - \beta - \delta = 90^\circ - \frac{\alpha + \beta}{2}$.

123/17. a) $\omega = 180^\circ - 3\alpha$

b) $\omega = 135^\circ - \frac{\alpha}{2}$

c) $\omega = 120^\circ$

123/18. Im Dreieck BCM gilt: $2\beta + 180^\circ - \alpha = 180^\circ \Rightarrow \beta = \frac{\alpha}{2}$.

123/19. $\sphericalangle M_1 M_2 A = \alpha$, $\sphericalangle M_2 M_1 C = 2\alpha$ (Außenwinkel) $= \sphericalangle M_1 C M_2$,

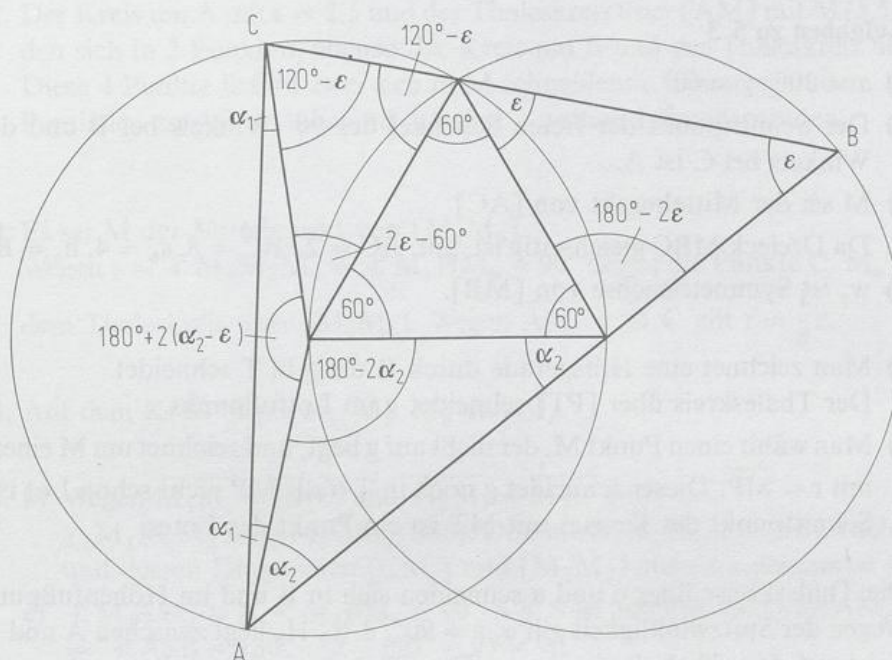
$\sphericalangle C M_2 M_1 = 180^\circ - 4\alpha$, $\sphericalangle C M_2 B = 3\alpha$, $\sphericalangle M_2 C B = \sphericalangle C B M_2 = 90^\circ - \frac{3}{2}\alpha$

$\gamma = 2\alpha + 90^\circ - \frac{3}{2}\alpha = 90^\circ + \frac{\alpha}{2}$.

$$124/20. \triangle AM_1C: 2\alpha_1 + 180^\circ + 2(\alpha_2 - \varepsilon) = 180^\circ$$

$$2(\alpha_1 + \alpha_2) = 2\varepsilon$$

$$\alpha_1 + \alpha_2 = \varepsilon.$$



124/21. $\triangle ABC$ ist gleichseitig, denn es besitzt nach Konstruktion mindestens 2 (also 3) Symmetrieachsen.

$$124/22. \sphericalangle EDA = \alpha, \sphericalangle BDF = \beta$$

$$\Rightarrow \sphericalangle FDE = 180^\circ - (\alpha + \beta) = \gamma$$

Ist α oder β stumpf, so gilt $\sphericalangle FDE = 180^\circ - \alpha + 180^\circ - \beta = 180^\circ + \gamma$.

124/23. Wegen $\overline{AM} = \overline{MC}$ bzw. $\overline{MC} = \overline{MB}$ sind beide Teildreiecke gleichschenkelig.

$$\gamma = \sphericalangle C = \sphericalangle ACM + \sphericalangle MCB = \alpha + \beta \text{ wegen der Gleichschenkligkeit.}$$

Da $\alpha + \beta + \gamma = \alpha + \beta + \alpha + \beta = 180^\circ$ ist, folgt $\gamma = 90^\circ$.

$$124/24. 5 \cdot 36^\circ = 180^\circ$$

$$7 \cdot \frac{180^\circ}{7} = 180^\circ$$

$$7 \cdot \frac{540^\circ}{7} = 540^\circ.$$

125/25. Man konstruiert die Winkelhalbierende w von g und h im Winkelfeld, das P enthält. Das Lot von P auf w ist die gesuchte Gerade e . Falls der Winkel, in dessen Winkelfeld P liegt, kleiner als 90° ist, gibt es eine zweite Lösung: Man zeichnet durch P die Parallele zu g und trägt bei P den Winkel $2\alpha = 2 \cdot \sphericalangle(g, h)$ als Außenwinkel des Hilfsdreiecks an. Der freie Schenkel (bzw. dessen Verlängerung) schneidet g und h in den gesuchten Punkten. (Zeichnet man durch P die Parallele zu h , so erhält man eine weitere Lösung).

- 125/26. Man zeichnet die Diagonale $[AC]$ ein und trägt bei A an die Diagonale nach oben und unten einen 30° -Winkel an. Die freien Schenkel dieser Winkel schneiden die Quadratseiten in den beiden gesuchten Punkten.

Aufgaben zu 5.3

- 128/1. a) $\alpha = 30^\circ$, $\gamma = 60^\circ$.
 b) Der Schnittpunkt der freien Schenkel des 90° -Winkels bei B und des 60° -Winkels bei C ist A.
 c) M sei der Mittelpunkt von $[AC]$.
 Da Dreieck MBC gleichseitig ist, gilt: $\overline{AC} = 2 \cdot \overline{BC} = 8$, $s_b = 4$, $h_c = \overline{BC} = 4$.
 d) w_γ ist Symmetrieachse von $[MB]$.
- 128/2. a) Man zeichnet eine Hilfsgerade durch P, die g in T schneidet.
 Der Thaleskreis über $[PT]$ schneidet g im Lotfußpunkt.
 b) Man wählt einen Punkt M, der nicht auf g liegt, und zeichnet um M einen Kreis mit $r = \overline{MP}$. Dieser schneidet g noch in T (falls MP nicht schon Lot ist). Der Schnittpunkt des Kreises mit MT ist ein Punkt des Lotes.
- 129/3. Die Thaleskreise über c und a schneiden sich in B und im Höhenfußpunkt H_b . Wegen der Spitzwinkligkeit gilt $\alpha, \gamma \neq 90^\circ$, d. h., H_b liegt zwischen A und C, also nicht auf dem Thaleskreis über a. Der Thaleskreis über a kann wegen $\beta \neq 90^\circ$ auch nicht durch B laufen.
 Bei rechtwinkligen Dreiecken schneiden sich die drei Thaleskreise im Kathetenschnittpunkt.
- 129/4. Da jeder Eckpunkt auf einem Thaleskreis liegt, hat das Viereck 4 rechte Winkel und ist ein Rechteck.
- 129/5. Die Diagonalen müssen aufeinander senkrecht stehen.
- 129/6. a) In den Dreiecken ASC und BDS gilt:
 $\sphericalangle C = \sphericalangle D = 90^\circ$, $\sphericalangle CSA = \sphericalangle BSD$, also auch $\alpha = \beta$.
 b) $\varepsilon = \sigma$, $\nu = \tau$ (wie in a)) $\Rightarrow \varepsilon + \tau = \nu + \sigma$
 c) $\varepsilon = 15^\circ$, $\omega = 135^\circ$
 d) $\omega = 2\alpha$ e) $\omega = 45^\circ - \frac{3}{4}\alpha$
- 129/7. a) bei spitzwinkligen Dreiecken b) bei stumpfwinkligen Dreiecken
 c) bei rechtwinkligen Dreiecken
- 129/8. $60^\circ < \alpha < 90^\circ$
- 129/9. Die beiden Thaleskreise schneiden c im Höhenfußpunkt H_c .
- 129/10. Die Lotfußpunkte liegen auf dem Thaleskreis über $[ST]$.

129/11. Der Thaleskreis über $[AB]$ und der Kreis um B mit $r = 2,5$ ergeben jeweils einen zweiten Punkt von a (also 2 Lösungen).

129/12. Der Kreis um A mit $r = 2,5$ und der Thaleskreis über $[AM]$ mit $M(5,5/1)$ schneiden sich in 2 Punkten, ebenso der Kreis um B und der Thaleskreis über $[MB]$. Diese 4 Punkte liefern zwei sich in M schneidende Lösungsgeraden. Die beiden Parallelen zu AB im Abstand 2,5 sind 2 weitere Lösungsgeraden.

129/13. Es sei M der Mittelpunkt von $[M_a M_b]$.
Wegen $\sphericalangle M_a M_c M_b = \sphericalangle M_a H M_b = 90^\circ$ liegen die Punkte C, M_c und H auf dem Thaleskreis über $[M_a M_b]$. Wegen $\overline{AM_c} = \overline{M_c C}$ gilt $r = \frac{1}{4}c$.

129/14. Auf dem Kreis liegen H_a , M_a , M_b und M_c .

129/15. b) Wegen $\overline{M_1 M_c} = \overline{M_1 C}$ und $\overline{M_2 M_c} = \overline{M_2 C}$ gilt:
 $\triangle M_1 M_c M_2 \cong \triangle M_1 C M_2$ (SSS). Deshalb ist $M_1 M_c M_2 C$ ein Drachenviereck, und dessen Diagonalen $[CM_c]$ und $[M_1 M_2]$ stehen aufeinander senkrecht.
c) $\sphericalangle M_c A M_1 = \beta$, $\sphericalangle M_2 B M_c = 90^\circ - \beta$; S sei Schnittpunkt von AM_1 und BM_2
 $\Rightarrow \sphericalangle ASB = 180^\circ - \beta - (90^\circ - \beta) = 90^\circ$
 $\Rightarrow S$ liegt auf dem Thaleskreis über $[AB]$; der Thaleskreis ist aber zugleich Umkreis von $\triangle ABC$.

130/16. a) M_1 sei der Mittelpunkt von $[DB]$. Wegen $\sphericalangle BWD = \sphericalangle DCB = 90^\circ$ liegen W und C auf dem Thaleskreis über $[DB]$; dies ist der Umkreis von WBCD.
 M_2 sei der Mittelpunkt von $[AE]$. Wegen $\sphericalangle ECA = \sphericalangle EWA = 90^\circ$ liegen C und W auf dem Thaleskreis über $[AE]$; dies ist der Umkreis von AWCE.

b) $\sphericalangle WEB = \alpha$. Da $\triangle ENC$ gleichschenkelig ist (Thaleskreis über $[DE]!$), gilt $\sphericalangle NCE = \sphericalangle NEC = \alpha$.

c) N bewegt sich auf einer Strecke, die den Punkt C enthält.

130/17. $\sphericalangle ECB = 3 \cdot 60^\circ = 180^\circ$, also liegt A auf dem Thaleskreis über $[EB]$.

130/18. $\varepsilon = 67,5^\circ - 45^\circ = 22,5^\circ$.

130/19. S sei der Diagonalschnittpunkt. $\sphericalangle DSE = 180^\circ - \gamma$, also $\sphericalangle ESA = \gamma$.

130/20. M bewegt sich auf einem Viertelkreis um den Wandfußpunkt W mit dem Radius $\overline{WM} = \overline{MA}$ (Vermutung aus der Zeichnung).

Da W auf dem Thaleskreis über $[AB]$ liegt, gilt nämlich $\overline{WM} = \overline{AM}$ ist konstant.

130/21. a) Es sei M der Mittelpunkt von $[HC]$. Wegen $\sphericalangle HH_b C = \sphericalangle CH_a H = 90^\circ$ liegen H_b und H_a auf dem Thaleskreis über $[HC]$.

- b) Da H_b auf dem Thaleskreis über $[AB]$ liegt, gilt: $\sphericalangle H_c A H_b = \alpha$
 $= \sphericalangle A H_b H_c \Rightarrow \sphericalangle H_c H_b B = 90^\circ - \alpha$. Da H_b auf dem Thaleskreis über
 $[HC]$ liegt, gilt: $\sphericalangle M H_b C = \frac{\gamma}{2} = 90^\circ - \alpha \Rightarrow \sphericalangle M H_b H = \alpha$.

Also erhält man $\sphericalangle M H_b H_c = \alpha + 90^\circ - \alpha = 90^\circ$.

- c) Für $\gamma = 45^\circ$ ist $M H_b H_c H_a$ ein Quadrat.

131/22. a) Die Punkte D und B liegen symmetrisch bezüglich h_c , also ist Dreieck DBC gleichschenkelig.

- b) $\sphericalangle EAB = 90^\circ - \beta$, $\sphericalangle BAC = 90^\circ - \beta \Rightarrow \sphericalangle EAB = \sphericalangle BAC$.

- c) Es sei M der Mittelpunkt von $[AC]$. Wegen $\sphericalangle CEA = \sphericalangle CHA = 90^\circ$ liegen E und H auf dem Thaleskreis über $[AC]$.

Die Dreiecke MHC, MEH und MAE sind gleichschenkelig mit der Schenkellänge $r = MC$.

$$\sphericalangle HMC = 180^\circ - 2\beta, \sphericalangle AME = 4\beta - 180^\circ \Rightarrow \sphericalangle EMH = 180^\circ - 2\beta.$$

Da die Dreiecke MHC und MEH im Winkel an der Spitze und in der Schenkellänge übereinstimmen, müssen auch die Basen gleich lang sein, also $\overline{EH} = \overline{HC}$.

131/23. Man trägt den Schenkel $[BC]$ an. Der Thaleskreis über $[BC]$ und der Kreis um C mit $r = \frac{1}{2} \overline{BC}$ schneiden sich im Mittelpunkt des anderen Schenkels. Es entsteht ein gleichseitiges Dreieck.

131/24. a) Der rechte Winkel liege bei C. Da auch das Dreieck EFC rechtwinklig ist, erhält man C als Schnittpunkt des gegebenen Kreises k und des Thaleskreises über $[EF]$ (2 Lösungen).

- b) z. B.: E und F liegen auf einem Durchmesser.

6. Kapitel

Aufgaben zu 6.1

139/3. c) $\gamma = 70^\circ$ d) $\gamma = 70^\circ$

139/4. b) Es gibt zwei Lösungen

139/5. Mauerhöhe $h \approx 11$ m

139/6. Seebreite $s \approx 75$ m

139/7. S(16/9)

139/8. Fernsehturmhöhe $h \approx 307$ m

139/9. Kanalbreite $b \approx 20$ m

139/10. A(2/5,5), B(8/7), C(3,5/11,5), D(10,5/13,5), E(12,5/-1,5), F(19/3)

Aufgaben zu 6.2

142/1. a) Der Thaleskreis über der Hypotenuse c schneidet den Kreis um A mit $r = 6,5$ in C .

b) Der freie Schenkel von α schneidet den Thaleskreis über der Hypotenuse c in C .

c) $h_a = b$ (analog Aufgabe a)).

142/2. Der Schnittpunkt des Thaleskreises über $[AB]$ und der Mittelsenkrechten von $[AB]$ ergibt C .

142/3. a) Die Parallele zu c im Abstand 3 schneidet den Thaleskreis über c in zwei Punkten.

b) Die Parallele zu c im Abstand 4 schneidet den Thaleskreis über c in C . Für $h_c > 4$ gibt es keine Lösung.

- 142/4. a) Teildreieck AH_aC ist konstruierbar aus h_a , b und $\sphericalangle AH_aC = 90^\circ$ (2 Lösungen).
 b) Teildreieck AH_aC ist konstruierbar aus b , h_a und $\sphericalangle AH_aC = 90^\circ$ ($H_a = B!$).
 c) Teildreieck ABH_b ist konstruierbar aus c , h_b und $\sphericalangle AH_bB = 90^\circ$ (2 Lösungen).
 d) Teildreieck AH_aC ist konstruierbar aus h_a , b und $\sphericalangle AH_aC = 90^\circ$ ($\sphericalangle BAH_a = 28^\circ$).
 e) Teildreieck ABH_b ist konstruierbar aus h_b , $\sphericalangle ABH_b = 35^\circ$, $\sphericalangle AH_bB = 90^\circ$.
 f) Teildreieck ABH_a ist konstruierbar aus h_a , c und $\sphericalangle AH_aB = 90^\circ$.
- 142/5. a) Teildreieck AM_aC ist konstruierbar aus b , s_a und $\frac{a}{2}$.
 b) Teildreieck M_cBC ist konstruierbar aus $\frac{c}{2}$, s_c und β .
 c) Teildreieck AM_cC ist konstruierbar aus b , s_c und α .
- 142/6. a) Teildreieck BCW_b ist konstruierbar aus a , w_β und $\frac{\beta}{2}$.
 b) Teildreieck AW_cC ist konstruierbar aus b , α und w_γ (2 Lösungen).
 c) Teildreieck BCW_b ist konstruierbar aus w_β , $\frac{\beta}{2}$ und $\sphericalangle BW_bC = 52,5^\circ$.
 d) Teildreieck ABW_b ist konstruierbar aus w_β , $\frac{\beta}{2} = 30^\circ$, $\sphericalangle AW_bB = 105^\circ$.
- 142/7. a) Teildreieck ABH_a ist konstruierbar aus c , h_a und $\sphericalangle AH_aB = 90^\circ$ (2 Lösungen).
 b) Teildreieck H_bBM_b ist konstruierbar aus s_b , h_b und $\sphericalangle M_bH_bB = 90^\circ$. (2 Lösungen)
 c) Teildreieck ABH_a ist konstruierbar aus c , h_a und $\sphericalangle AH_aB = 90^\circ$.
 d) Teildreieck H_cBC ist konstruierbar aus a , h_c und $\sphericalangle CH_cB = 90^\circ$ (2 Lösungen).
 e) Teildreieck AH_aC ist konstruierbar aus b , h_a und $\sphericalangle AH_aC = 90^\circ$.
 f) Teildreieck AH_cC ist konstruierbar aus h_c , b und $\sphericalangle AH_cC = 90^\circ$ (2 Lösungen).
- 142/8. a) Teildreieck AH_aC ist konstruierbar aus h_a , $\sphericalangle AH_aC = 90^\circ$ und $\sphericalangle CAH_a = 30^\circ$.
 b) Teildreieck AH_aM_a ist konstruierbar aus h_a , s_a und $\sphericalangle AH_aM_a = 90^\circ$. B liegt auf dem freien Schenkel des an AH_a in A angetragenen Winkels von 25° .
 c) Teildreieck ABH_b ist konstruierbar aus h_b , $\sphericalangle AH_bB = 90^\circ$ und $\sphericalangle H_bBA = 60^\circ$.
 d) Teildreieck BH_cC ist konstruierbar aus h_c , $\sphericalangle BH_cC = 90^\circ$ und $\sphericalangle BCH_c = 20^\circ$.
- 142/9. a) Parallelogramm $ABA'C$ ist konstruierbar aus $c = \overline{AB}$, $\overline{BA'} = b$, $\overline{AA'} = 2s_a$.
 b) Parallelogramm $ABA'C$ ist konstruierbar aus $c = \overline{AB}$, $\beta = 30^\circ$, $\overline{AA'} = 2s_a$.
 c) Parallelogramm $ABA'C$ ist konstruierbar aus $\overline{AC} = b$, h_b und $\overline{AA'} = 2s_a$ (2 Lösungen).

- d) Parallelogramm $ABCB'$ ist konstruierbar aus $c = \overline{AB}$, h_a und $\overline{BB'} = 2s_b$ (2 Lösungen).
- e) Parallelogramm $ABA'C$ ist konstruierbar aus α , h_c und $\overline{AA'} = 2s_a$.
- 142/10. a) D liegt auf $[AB]$ mit $\overline{AD} = 3$; Teildreieck ADC ist konstruierbar aus $\overline{AD} = 3$, $\alpha = 40^\circ$ und $\sphericalangle ADC = 115^\circ$.
- b) D liegt auf $[AC]$ mit $\overline{CD} = 1$; Teildreieck BCD ist konstruierbar aus $\overline{CD} = 1$, $\gamma = 30^\circ$, $\sphericalangle CDB = 127,5^\circ$.
- c) Teildreieck CH_cB ist konstruierbar aus h_c , a und $\sphericalangle CH_cB = 90^\circ$. Man verlängert $[H_cB]$ über B hinaus um 1,5 und erhält D. A ist der Schnittpunkt der Mittelsenkrechten von $[CD]$ mit BH_c .
- 142/11. a) Der Thaleskreis über c und der Kreis um A mit $r = 6$ schneiden sich in H_a . Der freie Schenkel von α und BH_a schneiden sich in C.
- b) Der Thaleskreis über c und der Kreis um A mit $r = 5$ schneiden sich in H_a . BH_a schneidet die Parallele zu c im Abstand 4 in C.
- c) Der Thaleskreis über c und der Kreis um B mit $r = 7$ schneiden sich in H_b . AH_b und der Kreis um A mit $r = 6$ schneiden sich in C.
- 142/12. a) Man trägt a als Sehne im Umkreis ab und trägt bei B den Winkel β an. Der freie Schenkel von β schneidet den Umkreis in A.
- b) Man konstruiert ein $\triangle A'B'C'$ aus den gegebenen Winkeln und seinen Umkreismittelpunkt M. Der Kreis um M mit $r = 5$ und $\sphericalangle MA'$ schneiden sich in A. Die Parallele c zu c' durch A und die Parallele b zu b' durch A schneiden den Kreis in B bzw. C.
- c) Man zeichnet in den Kreis um M mit $r = 2,5$ die Sehne $\overline{AC} = b = 4,5$. Die Parallele zu AC im Abstand 3 schneidet den Kreis in B_1 und B_2 (2 Lösungen).
- d) Man zeichnet in den Kreis um M mit $r = 3$ einen Durchmesser $C = \overline{AB} = 6$ ein. Da das Dreieck rechtwinklig ist, gilt $h_b = \overline{BC} = 4$.
- e) Man zeichnet in den Kreis um M mit $r = 3,5$ die Sehne $c = \overline{AB} = 6$ ein. Der Kreis um B mit $r = 3$ und der Thaleskreis über $[AB]$ schneiden sich im Höhenfußpunkt H_b .
- 142/13. A(1|1), B(9|1). C_1 , bzw. C_2 erhält man als Schnittpunkte des Umkreises mit der Parallelen zu c im Abstand 7.
- 142/14. Die Parallele zu AB im Abstand 4 schneidet den Umkreis in C_1 bzw. C_2 .
- 142/15. Man zeichnet die Lote zu HH_c durch H_c und zu HH_a durch H_a .
- 142/16. Man konstruiert das Teildreieck AHC. Die Lote von A auf HC und von C auf AH schneiden sich in B.
- 143/17. Man konstruiert die Winkelhalbierenden im Höhenfußpunktdreieck $H_aH_bH_c$ (sie sind Höhen in $\triangle ABC$) und ebenso die Außenwinkelhalbierenden (sie sind Seiten im $\triangle ABC$).

- 143/18. a) Man errichtet in H_b das Lot zu H_bH und ebenso in H_a das Lot zu H_aH . Die Lote schneiden sich in C. Die Verlängerungen der Lote und H_aH bzw. H_bH schneiden sich in A bzw. B.
 b) $\triangle ABH$, $\triangle AHC$ und $\triangle BCH$.
- 143/19. Wegen $\sphericalangle AH_bH = \sphericalangle HH_cA = 90^\circ$ liegen H_c und H_b auf dem Thaleskreis über $[AH]$; $r = \frac{AH}{2}$.
- 143/20. a) Man konstruiert zuerst das Dreieck BCD.
 b) Man konstruiert zuerst das Dreieck ABC.
 c) Man konstruiert zuerst das Dreieck ABC.
 d) Man konstruiert zuerst das Dreieck ABC.
 e) Man konstruiert zuerst das Dreieck ABD (2 Lösungen).
- 143/21. a) Der Thaleskreis über $[AC]$ und der Kreis um C mit $r = 4$ schneiden sich in B.
 b) Der Thaleskreis über $[BD]$ und der freie Schenkel von $\sphericalangle BDC$ schneiden sich in C.
- 143/22. Man konstruiert das Dreieck ABD. Der Thaleskreis über $[BD]$ und der Kreis um D mit $r = 2,5$ schneiden sich in C.
- 143/23. Man konstruiert erst Dreieck ABC, dann D, dann E (2 Lösungen).
- 143/24. Man konstruiert zuerst das Dreieck ABC, dann D, dann E und schließlich F aus $\sphericalangle FCE = 30^\circ$ und $\sphericalangle FEC = 75^\circ$.
- 143/25. a) $b \approx 794$ m.
 b) Die Sonnenhöhe ist der Winkel gegen die Horizontale: $\alpha \approx 49^\circ$.
- 143/26. a) Man verdoppelt $\sphericalangle WBH_c$. Die Höhe h_c und ein Schenkel von β schneiden sich in C (6|13). Durch Verdoppelung von $\sphericalangle WCB$ erhält man A(1|1).
 b) Wegen $H = C$ hat $\triangle ABC$ den rechten Winkel γ . Man trägt an CW nach links und rechts einen Winkel von 45° an. Der Kreis um M mit $r = \overline{MC}$ ergibt die Punkte A und B.
 c) Verdoppelung von $[BM_c]$ liefert A. Verdoppelung der Winkel $\sphericalangle BAW$ und $\sphericalangle WBA$ liefert C.

Aufgaben zu 6.3

- 145/1. a) ja b) ja c) nein, da $a = b + c$
 d) nein, da $\beta > 95^\circ$ sein müßte
 e) nein, da $\beta > 70^\circ$ sein müßte
 f) nein, da $a \geq h_c$ sein muß.

145/2. $a < 10, \quad c < 10, \quad a + c > 10.$

- 145/3. a) P, Q, R liegen auf einer Gerade, wobei Q zwischen P und R liegt.
 b) P, Q, R bilden ein Dreieck.
 c) P, Q, R liegen auf einer Gerade, wobei P zwischen R und Q liegt.

145/4. $2 < s < 12.$

- 146/5. a) D liegt symmetrisch zu A, also $\overline{CD} = \overline{CA} = b$.
 b) $\sphericalangle CDW$ und $\sphericalangle CAW$ liegen symmetrisch, sind also gleich groß.
 c) $\alpha = \sphericalangle CDW = \beta + \sphericalangle BWD$ (Außenwinkelsatz) $\Rightarrow \alpha > \beta$.

- 146/6. a) Dreieck ADC ist gleichschenkelig, also ist der Basiswinkel $\sphericalangle ADC$ spitz.
 b) $\sphericalangle ADB$ ist stumpf, also liegt ihm die größte Seite im Dreieck ABD gegenüber.
 c) $a - b < c$.

- 146/7. a) $a = 13$ oder $a = 19$
 b) $a = 14, 15, 16, 17$ oder 18
 c) $a = 7, 8, \dots, 17$ oder 18 (in einer Zeichnung erkennt man weiter: $a < 12$).

- 146/8. a) Der Diagonalschnittpunkt zerlegt die Diagonalen in e_1 und e_2 bzw. f_1 und f_2 . Aus $e_1 + f_1 > a$ und $e_2 + f_2 > c$ folgt durch Addition: $e + f > a + c$.
 b) Aus $e_1 + f_1 > a$, $f_1 + e_2 > b$, $e_2 + f_2 > c$ und $f_2 + e_1 > d$ folgt durch Addition: $2e + 2f > u$, also $e + f > \frac{u}{2}$.
 c) Aus $e < a + b$ und $f < c + d$ folgt durch Addition: $e + f < u$.

- 146/9. a) $\sphericalangle DCB = 60^\circ > \sphericalangle CBD \Rightarrow \overline{BD} > \overline{DC}$
 b) $\sphericalangle DCB = 60^\circ < \sphericalangle CBD \Rightarrow \overline{BD} < \overline{DC}$.

146/10. Aus $h_a \leq b$ und $h_a \leq c$ folgt durch Addition:

$$2h_a < b + c, \quad \text{also} \quad h_a < \frac{b + c}{2},$$

denn höchstens in einer Ungleichung kann Gleichheit eintreten, wenn $\gamma = 90^\circ$ bzw. $\beta = 90^\circ$ ist.

- 146/11. Aus $\frac{c + b}{2} > h_a$, $\frac{c + a}{2} > h_b$ und $\frac{a + b}{2} > h_c$ folgt durch Addition:
 $u > h_a + h_b + h_c$.

- 146/12. M sei der Mittelpunkt von $[AB]$. Das Dreieck mit den Eckpunkten H_c , M, C ist entweder rechtwinklig mit der Hypotenuse $[CM]$, oder es gilt $\overline{CM} = \overline{CH_c}$ (falls das Dreieck ABC gleichschenkelig-rechtwinklig ist). Also folgt:

$$\overline{CH_c} \leq \frac{1}{2} \overline{CM} = \frac{1}{2} \overline{AB} = \frac{1}{2} c.$$

7. Kapitel

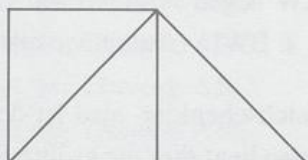
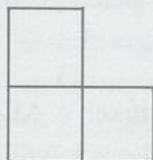
Aufgaben zu 7.1

149/1. $DIS \cong SKU$, $ISD \cong KUS$, $SDI \cong USK$

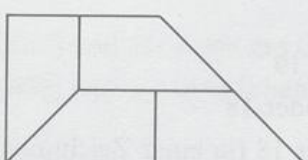
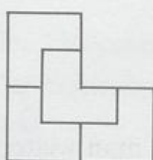
$$\overline{DI} = \overline{SK}, \overline{IS} = \overline{KU}, \overline{SD} = \overline{US}, \sphericalangle D = \sphericalangle S, \sphericalangle I = \sphericalangle K, \sphericalangle S = \sphericalangle U$$

149/2. Wegen der Symmetrie sind Urbild und Bild kongruent.

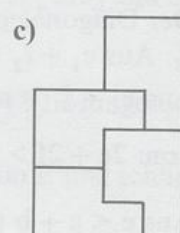
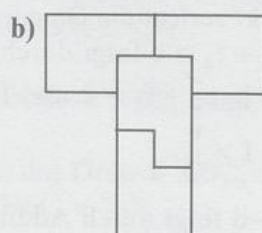

149/3. a)



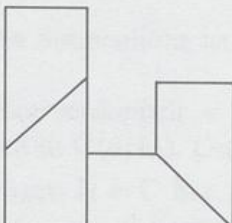
b)



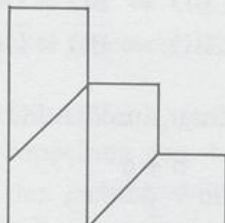
150/4. a)



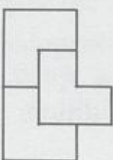
d)



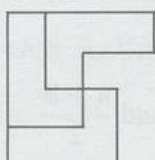
e)



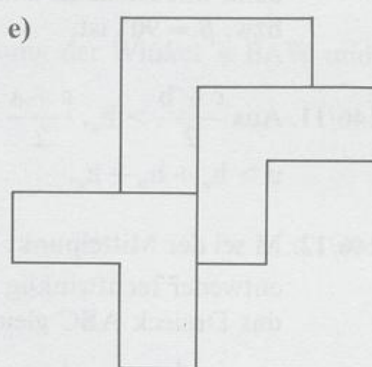
150/5. a)



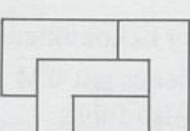
b)




e)



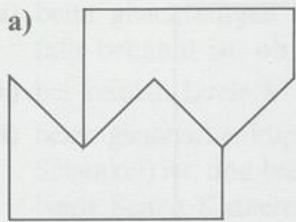
c)



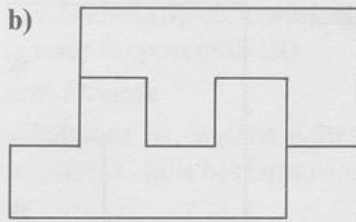
d)



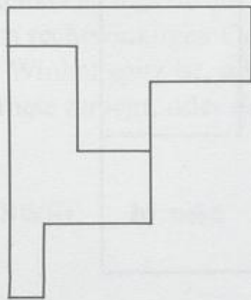
150/6. a)



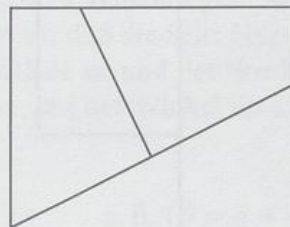
b)



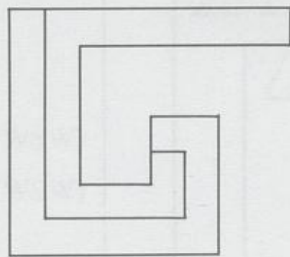
c)



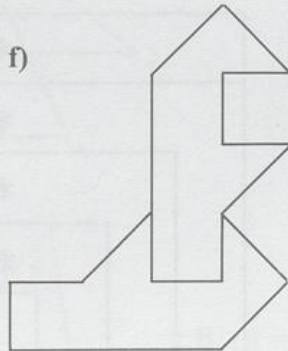
d)



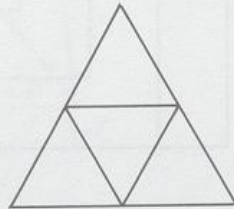
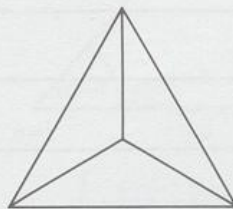
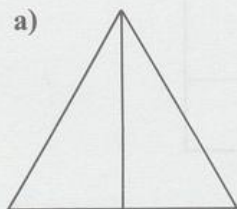
e)



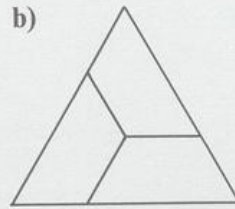
f)



150/7. a)

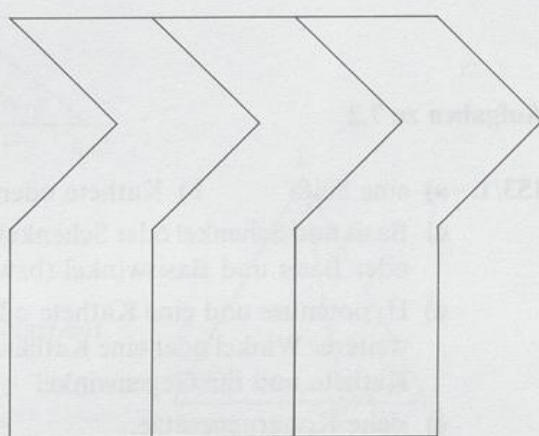


b)

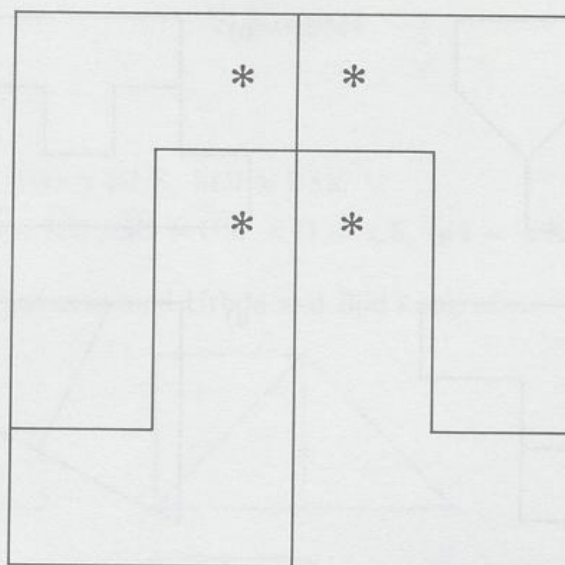


151/8. a) Jede der beiden oberen Figuren ist umzudrehen.

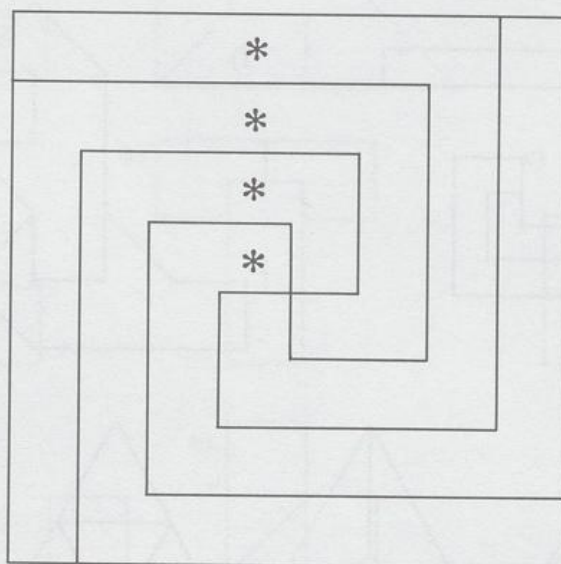
b)



151/9. a) z.B.:



b) z.B.:



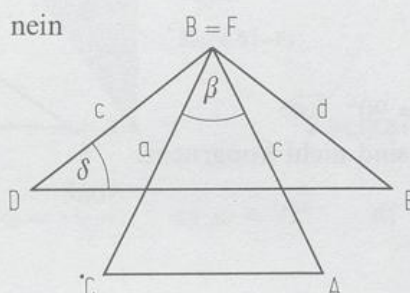
Aufgaben zu 7.2

- 153/1. a) eine Seite b) Kathete oder Hypotenuse
- c) Basis und Schenkel oder Schenkel und Winkel an der Spitze (bzw. Basiswinkel) oder Basis und Basiswinkel (bzw. Winkel an der Spitze)
 - d) Hypotenuse und eine Kathete oder beide Katheten oder Hypotenuse und ein weiterer Winkel oder eine Kathete und der andere anliegende Winkel oder eine Kathete und ihr Gegenwinkel
 - e) siehe Kongruenzsätze.

- 153/2. a) beim gleichseitigen Dreieck (beim gleichschenklig-rechtwinkligen Dreieck, falls bekannt ist, ob die Seite Kathete oder Hypotenuse ist)
 b) bei keinem Dreieck c) bei keinem Dreieck
 d) beim gleichschenkligen Dreieck, falls bekannt ist, welche Seite Basis (bzw. Schenkel) ist, und beim rechtwinkligen Dreieck, falls bekannt ist, ob entweder beide Seiten Katheten sind oder nicht.
 e) beim gleichschenkligen Dreieck, falls bekannt ist, ob die Seite Basis oder Schenkel ist und ob der Winkel Basiswinkel oder Winkel an der Spitze ist, und beim rechtwinkligen Dreieck, falls bekannt ist, daß die Seite Hypotenuse und der Winkel spitz ist, oder daß die Seite Kathete ist und der Winkel an dieser Kathete anliegt, oder daß die Seite Kathete und der Winkel ihr Gegenwinkel ist.

153/3. a) ja (SWS) b) nein

z. B. ($\beta = \delta = 40^\circ$)

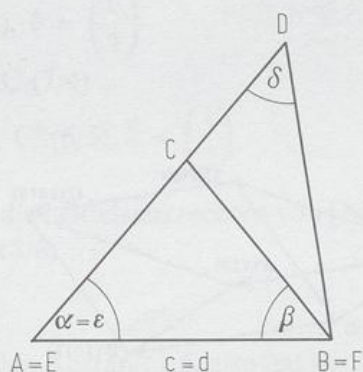


c) ja (WSW)

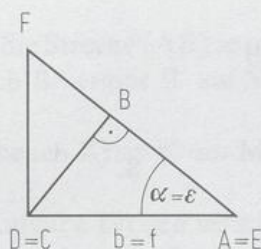
d) ja (WSW)

e) nein

z. B. ($\beta = \delta = 50^\circ$)

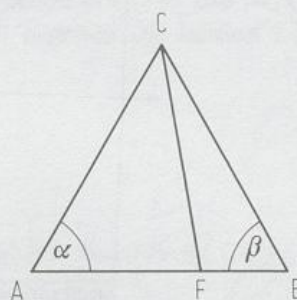


f) nein



153/4. $\overline{AC} = \overline{BC}$
 $\overline{CF} = \overline{CF}$
 $\alpha = \beta$

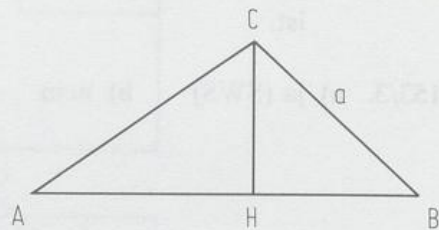
Aber: Die Dreiecke sind i. a. nicht kongruent.



- 154/5. a) $\triangle ABD \cong \triangle ABC \cong \triangle BCD \cong \triangle CDA$ (SWS)
 $\triangle ABM \cong \triangle CDM$ (SSS)
 $\triangle BCM \cong \triangle DAM$ (SSS)
 b) $\triangle ABC \cong \triangle BCD \cong \triangle CDA \cong \triangle DAB$ (SSS)
 $\triangle ABM \cong \triangle BCM \cong \triangle CDM \cong \triangle DAM$ (SSS)
 c) $\triangle AM_c M_b \cong \triangle M_c B M_a \cong \triangle M_a C M_b \cong \triangle M_a M_b M_c$ (SSS)
 d) $\triangle ABF \cong \triangle BDA$ (SSS)
 $\triangle AEC \cong \triangle EBC$ (SSS)
 $\triangle AEH \cong \triangle EBH$ (SSS)
 $\triangle BFH \cong \triangle AHD$ (SSS)
 $\triangle HFC \cong \triangle HCD$ (SSS)
 $\triangle BCH \cong \triangle CAH$ (SSS)

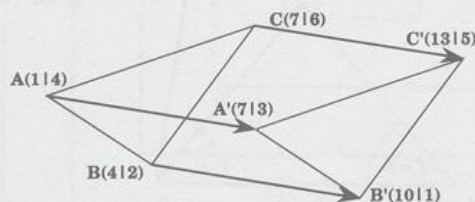
- 154/6. $\overline{AH} = \overline{BC}$
 $\overline{CH} = \overline{CH}$
 $\sphericalangle CHA = \sphericalangle BHC = 90^\circ$

Aber: Die Dreiecke sind nicht kongruent.



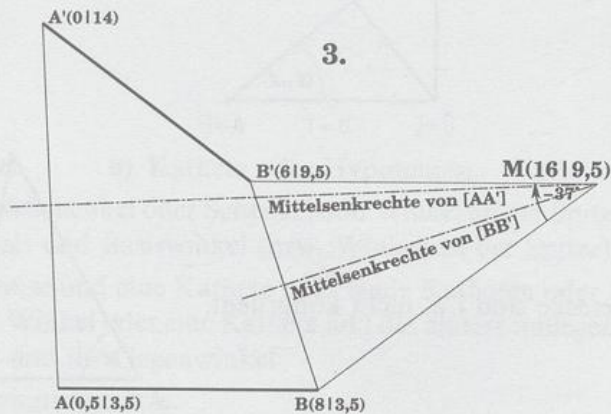
Aufgaben zu 7.3

164/1.

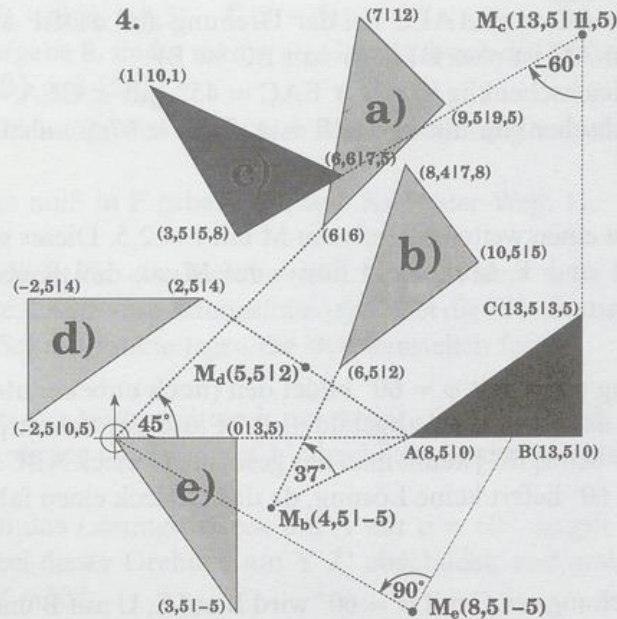


165/2. $A'(6,7/7,2)$, $B'(9/4)$, $C'9/9)$

165/3.



165/4.



- 166/5. a) $\varphi = 60^\circ$ b) $\varphi = \frac{360^\circ}{7}$ c) $\varphi = 72^\circ$ d) $\varphi = 120^\circ$ e) $\varphi = 40^\circ$
 f) $\varphi = 60^\circ$.

- 166/6. a) $B'(10/6)$, $C'(11/5)$, $\vec{v} = \begin{pmatrix} 6 \\ 3 \end{pmatrix}$
 b) $A'(3/3)$, $B'(6/5)$, $C'(7/4)$
 c) $A''(2/4)$, $B''(5/6)$, $C''(6/5)$, $\vec{k} = \begin{pmatrix} 1 \\ 3 \end{pmatrix}$

- 166/7. $\varphi_1 = 37^\circ$, $\varphi_2 = 53^\circ$; die Mittelsenkrechten von $[M_1 M_1']$ und $[M_2 M_2']$ schneiden sich im Zentrum $M(8/6)$.

- 166/8. b) 3

c) a_1 und a_2 haben den Abstand 1,5, also hat der Verschiebungspfeil die Länge 3.

- 167/9. Man verschiebt zunächst die Strecke $[AB]$ so, daß z. B. A^* (beliebig) auf SU liegt. Die Parallele zu SU durch B^* ergibt B' auf ST . A' findet man nun auf SU .

- 167/10. B läuft auf dem verschobenen Kreis k' um $M'(5/6)$ mit $r = 2$.

- 167/11. Man konstruiert (nach Aufgabe 10) den verschobenen Kreis k'_1 um $M'_1(5/6)$ mit $r = 2$. Die beiden Schnittpunkte von k_2 und k'_1 ergeben die beiden Lösungen B'_1 und B'_2 .

- 167/12. a) $M(3,5/1,5)$, $\varphi = -90^\circ$
 b) $M(-4/0)$, $\varphi = -22,6^\circ$.

- 167/13. Man konstruiert den Spiegelpunkt A_1 von A bei der Spiegelung an a_1 . a_2 ist die Mittelsenkrechte von $[A_1 A']$, Drehpunkt $M(3/4)$, $\varphi = 128^\circ$.

- 167/14. Wegen $\overline{AE} = \overline{AC}$ wird $\triangle AEC$ bei der Drehung auf $\triangle DBF$ abgebildet.
Das Bild von AC ist also DF, das von EC ist BF.
Da $\triangle CEA$ gleichschenkelig ist mit $\sphericalangle EAC = 45^\circ$, gilt $\sphericalangle CEA = 67,5^\circ$. Ebenso ist $\triangle EMB$ gleichschenkelig mit $\sphericalangle MEB = \sphericalangle CEA = 67,5^\circ$, also $\varepsilon = 45^\circ$. ε ist der Drehwinkel.
- 167/15. Man zeichnet einen weiteren Kreis um M mit $r = 2,5$. Dieser schneidet die Hilfssehne s in R und T. Man dreht nun s um M so, daß R (oder T) auf P fällt (2 Möglichkeiten).
- 167/16. Eine Drehung um C mit $\varphi = 60^\circ$ bildet den (noch unbekannten) Punkt A auf B ab. SR wird dabei auf S'R' abgebildet. B ist also der Schnittpunkt von ST und S'R'. Mit der Seite [BC] kennt man das gesuchte Dreieck ABC. (Die Drehung um C mit $\varphi = -60^\circ$ liefert keine Lösung, da das Dreieck einen falschen Umlaufsinn hat.)
- 167/17. Bei einer Drehung um C mit $\varphi = 60^\circ$ wird B auf S, U auf B und T auf A abgebildet, also wird [TB] auf [AS] abgebildet, d.h. $\overline{TB} = \overline{AS}$.
Eine Drehung um B mit $\varphi = -60^\circ$ zeigt $\overline{CU} = \overline{AS}$.
 $\sphericalangle (AS; BT) = 60^\circ$.
- 168/18. z.B.: $a_1 = m_{A\bar{A}}$, $a_2 = m_{B'\bar{B}}$.
- 168/19. z.B.: $a_1 = m_{A\bar{A}}$, $a_2 = \overline{AB}$.
- 168/20. z.B.: $a_1 = AC$, $a_2 = m_{A'C'} = m_{AC}$, $a_3 = m_{A''\bar{A}}$.
- 168/21. z.B.: $a_1 = m_{C\bar{C}}$, $a_2 = m_{D'\bar{D}}$.
- 168/22. a) Es sind mindestens 2 Spiegelachsen notwendig.
b) Es sind entweder eine oder drei Spiegelachsen notwendig.
- 168/23. $\bar{A}(4,5/-1,5)$, $\bar{B}(1,5/-0,5)$, $\bar{C}(3/4)$.
Die 3 Spiegelungen können durch eine Spiegelung an der Achse $m_{B\bar{B}}$ ersetzt werden.
- 168/24. $\bar{A}(11,5/3,5)$, $\bar{B}(6/0)$, $\bar{C}(9/6)$.
Die zur y-Achse parallele Spiegelachse durch $(5/0)$ leistet dasselbe.
- 168/25. $\bar{A}(11,5/4,5)$, $\bar{B}(5/5)$, $\bar{C}(9/2)$.
Die Schubspiegelung, bestehend aus einer Achsenspiegelung und einer anschließenden Translation, erhält man folgendermaßen:
Für das Spiegelbild $A'B'C'$ des Dreiecks ABC an der Achse a gilt $\sphericalangle AA'A' = \sphericalangle BB'B' = \sphericalangle CC'C' = 90^\circ$. Also ist $a \parallel A'A_1$, und da a die Strecke $[AA']$ halbiert, liegt auch der Mittelpunkt M_1 von $[A\bar{A}]$ auf a (Mittellinieneigenschaft). Analog müssen die Mittelpunkte M_2 von $[B\bar{B}]$ und M_3 von $[C\bar{C}]$ Punkte der Achse a sein. Der Verschiebungspfeil ist $\overrightarrow{A'A}$.

169/26. $\bar{A}(7,5/-5)$, $\bar{B}(8/-8,5)$, $\bar{C}(5/-5)$.

Wie in Aufgabe 8. findet man a als Gerade durch die Mittelpunkte der Strecken $[A\bar{A}]$, $[B\bar{B}]$ und $[C\bar{C}]$.

Der Verschiebungspfeil ergibt sich nach Spiegelung von A an a als $\overrightarrow{A'A}$.

169/27. Die Brücke muß in P gebaut werden. Kürzester Weg: 11.


169/28. Man verschiebt die eine Brücke nach D , die andere nach M und verbindet die Endpunkte. Diese Verbindungslinie schneidet die Flüsse in 4 Punkten. Die beiden mittleren Schnittpunkte legen die Brückenstellen fest.

169/29. Dreht man das Lösungsdreieck um A mit $\varphi = 60^\circ$, so gilt $B' = C$.
 b wird bei dieser Drehung auf b' abgebildet, und es gilt deshalb $\{C\} = b' \cap c$.

169/30. Dreht man das Lösungsdreieck um A mit $\varphi = 60^\circ$, so gilt $B' = C$.
 YZ wird bei dieser Drehung auf $Y'Z'$ abgebildet, und deshalb gilt
 $\{C\} = Y'Z' \cap XZ$.

169/31. Dreht man das Lösungsdreieck um A mit $\varphi = 60^\circ$, so gilt $B' = C$. Man findet C_1 und C_2 als Schnittpunkte des gedrehten Kreises k_2' und k_3 . (Da A fest gewählt ist, spielt k_1 überhaupt keine Rolle.)

169/32. Dreht man das Lösungsquadrat um A mit $\varphi = 90^\circ$, so gilt $B' = D$. Man findet D als Schnittpunkt des gedrehten Kreises k_1 und k_3 .



ISBN 3-486-03295-X



9 783486 032956

Bestell-Nr. 03295-X