



UNIVERSITÄTS-
BIBLIOTHEK
PADERBORN

Anschauliche Geometrie

Barth, Friedrich

München, 2001

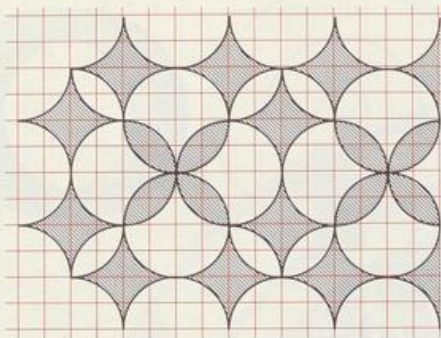
Aufgaben

[urn:nbn:de:hbz:466:1-83485](https://nbn-resolving.org/urn:nbn:de:hbz:466:1-83485)

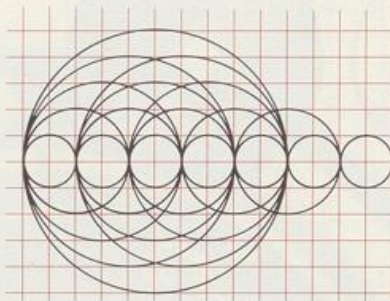
Aufgaben zu 1.4

1. Zeichne ab und setze das Muster fort:

a) Spitzenkreise



b) Kreismus



2. Zeichne nach:

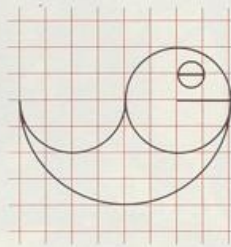
a) Yin-Yang



b) Vierlinge




c) Geobold

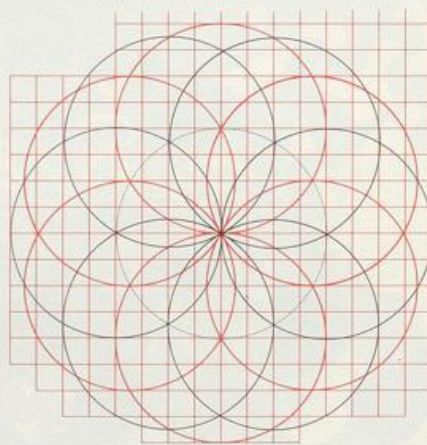


3. Zeichne nach:

a) Sechser-Rosette

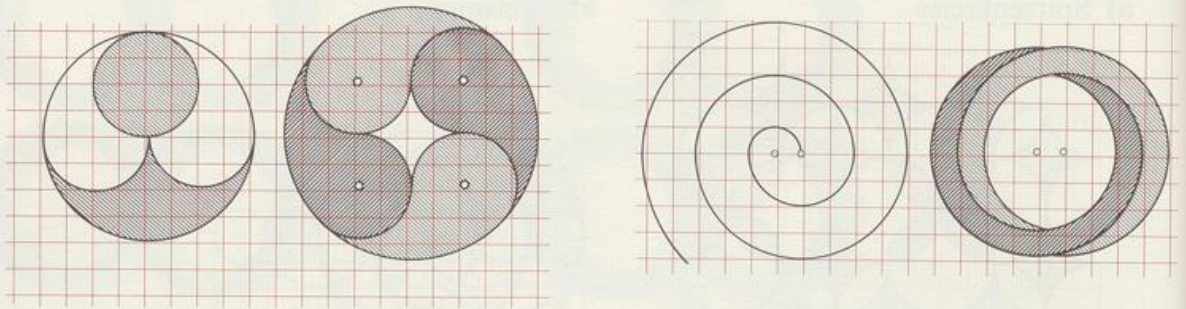


b) Zwölfer-Rosette



4. Zeichne nach:

- a) Kugelhupf b) Quadroquappen c) halbkreisliche Spirale d) Doppelmoppel




5. Pflastere weiter:

a) Ziegeldach




b) Kreuzundquer




c) Querundkreuz




d) Halbkreisen



e) Gleichvasen



f) Quervasen



g) Gegenvasen

